

3 社会

*** 開始の合図があるまで、開いてはいけません ***

試験が始まるまで、下の〔注意すること〕を読んでおいてください。

〔注意すること〕

- 問題用紙のページは19ページまでです。 解答用紙が1枚あります。
- 解答はすべて解答用紙に記入してください。
- 試験時間は、45分です。
- 印刷の見えにくい場合やページがぬけている場合は知らせてください。
そのほかの場合は、質問を受けません。
- 必要なものは、えんぴつ、消しゴム です。

1 次の各問いに答えなさい。

問1 次の(1)～(5)に答えなさい。

- (1) 日本列島の太平洋側を北から南へ流れる寒流を何といいますか。
- (2) 木のくずや燃えるごみなどを燃やすときの熱を利用して発電する方法を何といいますか。
- (3) 沿岸から約370kmの海は、沿岸の国が優先して資源を利用したり調査をしたりすることができる範囲として定められた水域です。この水域を何といいますか。
- (4) 国内で食べられている食料のうち、自分の国でつくられている食料の割合を何といいますか。
- (5) 大きな地震の発生直後に、強いゆれが予想されることを気象庁が伝える情報を何といいますか。

問2 次の(1)～(5)の()にあてはまる語句をそれぞれ答えなさい。

- (1) 佐賀県にある()遺跡は、弥生時代後期の遺跡で、物見やぐらやたて穴住居などが見られる。
- (2) 大阪府にある()古墳は、5世紀につくられた日本最大の古墳である。
- (3) 天皇の子として生まれた聖徳太子は、天皇の政治を助ける()という役職についた。
- (4) 平安時代には、中国の文化をもとにしながら、日本の風土や生活などにあつた()文化が生まれ出され、10世紀から11世紀ごろに栄えた。
- (5) 13世紀後半に、中国からの大軍が2度にわたり襲来してくる()があつた。

- 2 次の文章はウメさん、サクラさんの会話です。ウメさんとサクラさんは、会話文中の下線部の道県について調べることにしました。これを読んで、後の問いに答えなさい。

ウメさん： 安田女子高校生徒会では2009年から2020年まで、校庭にある被爆桜の苗木を全国に送る活動を行っていました。今は被爆桜の体力が弱っているため活動は行っていませんが、今でも苗木の送り先とのつながりは続いています。

サクラさん： 原爆の悲惨さについて知ってもらうだけでなく、復興のシンボルとして人々に希望を与える良い取り組みですね。これまでにどれくらいの地域に送ったのですか？

ウメさん： 北海道、岩手県、愛知県、福井県、三重県、岡山県、鹿児島県など、全国のたくさんの都道府県に送りました。

サクラさん： そうなのですね。私たちは原爆の悲惨さを幼い頃から学んできましたが、戦争の被害はそれぞれに異なり、それぞれの想いをかかえているのではないかと思います。広島のことを知ってもらうだけでなく、送り先のことも学ばないといけませんね。

- 問1 ウメさんとサクラさんは、被爆桜が送られた都道府県の位置を地図帳で確認しました。次の(1)・(2)に答えなさい。

- (1) 次の図1中のア～エは岩手県、三重県、福井県、岡山県のいずれかです。三重県にあてはまるものを、ア～エから1つ選び、記号で答えなさい。なお、縮尺・方位は加工しているため、実際とは異なります。また、島は削除しています。

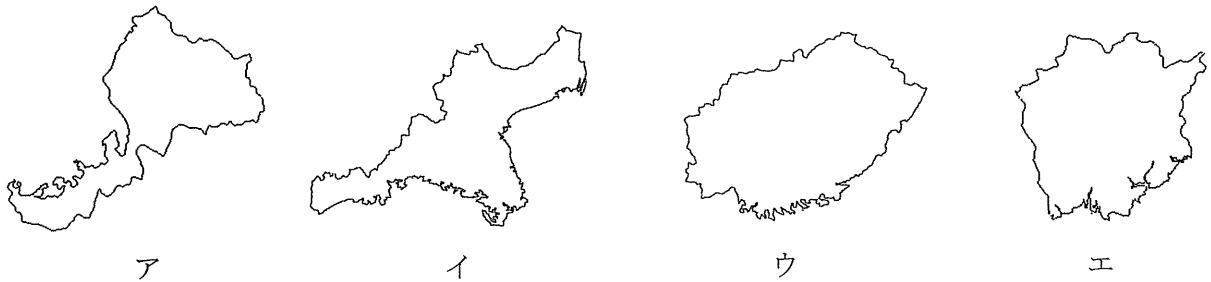


図1

- (2) 図1中のア～エのうち、中国地方に位置する県を、ア～エから1つ選び、記号で答えなさい。

問2 ウメさんとサクラさんは、被爆桜の送り先の自然環境^{かんきょう}について調べました。これに関して、次の(1)・(2)に答えなさい。

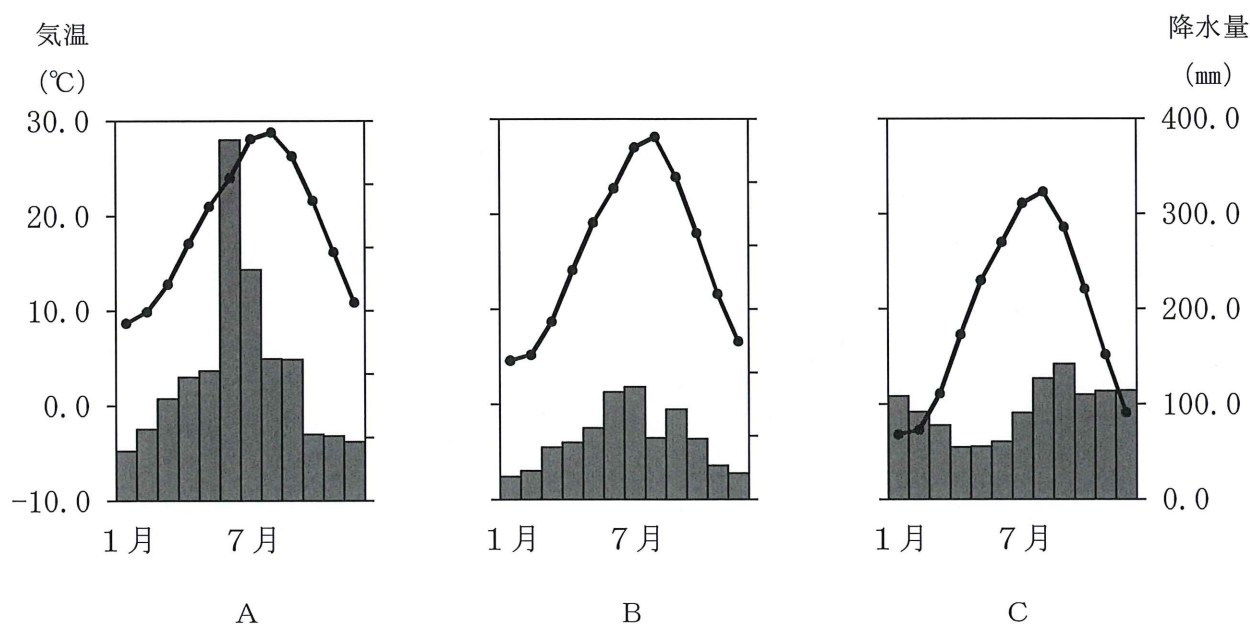
(1) 次の写真は北海道、岩手県、愛知県、福井県、三重県、岡山市、鹿児島県のいずれかで撮影されたものです。写真について述べた文章を参考にして、撮影された場所が位置する道県名を答えなさい。

各道県の地形の特徴は、いずれも海に面している点で共通していますが、海岸の形や沿岸にみられる地形が異なります。

右の写真は、観光地となっている庭園の風景を撮影したものです。東～南方向に海をながめることができます。この海は2つの半島にはさまれた湾^{わん}になっています。対岸には火山がみられ、美しい景色を楽しむことができます。



(2) 次の図2中のA～Cは札幌市、岡山市、鹿児島市のいずれかの気温と降水量を示したものです。A～Cにあてはまる都市の組合せとして正しいものを、後のア～カから1つ選び、記号で答えなさい。



(気象庁「過去の気象データ平年値」より作成)

図2

	ア	イ	ウ	エ	オ	カ
A	札幌市	札幌市	岡山市	岡山市	鹿児島市	鹿児島市
B	岡山市	鹿児島市	札幌市	鹿児島市	札幌市	岡山市
C	鹿児島市	岡山市	鹿児島市	札幌市	岡山市	札幌市

問3 ウメさんとサクラさんは、広島県の産業と被爆桜の送り先の産業を比較することで、各道県の特徴を考察することにしました。産業に関して、次の(1)～(3)に答えなさい。

- (1) 次の表1は広島県と愛知県、福井県、岡山県、鹿児島県のいずれかの農業産出額と、農業産出額に占める米、野菜、果実、畜産の割合を示したものです。岡山県と鹿児島県にあてはまるものを、表1中のア～エから1つずつ選び、記号で答えなさい。

表1

県名	農業産出額 (億円)	米 (%)	野菜 (%)	果実 (%)	畜産 (%)
広島県	1,289	17.8	21.0	12.8	45.2
ア	1,526	17.4	15.1	18.2	45.7
イ	412	57.0	20.4	2.9	13.6
ウ	3,114	7.8	35.9	5.9	29.5
エ	5,114	3.3	10.4	2.2	67.9

(二宮書店『データブック オブ・ザ・ワールド 2025年版』より作成)

- (2) 次の表2は広島県と北海道、三重県、岡山県のいずれかの工業製品出荷額の合計と主な工業製品別の生産額を示したものです。表2中のD～Fにあてはまる道県名の組合せとして正しいものを、後のア～カから1つ選び、記号で答えなさい。

表2

(単位：十億円)

道県名	工業製品 出荷額合計	食料品	化学工業	石油製品・ 石炭製品	輸送用 機械器具*
広島県	9,944	589	383	17	3,053
D	11,034	500	1,348	608	2,621
E	6,129	2,270	191	705	397
F	8,365	561	1,274	1,713	763

*輸送用機械器具とは自動車、鉄道、船など人や物を運ぶための機械器具を指します。

(二宮書店『データブック オブ・ザ・ワールド 2025年版』より作成)

	ア	イ	ウ	エ	オ	カ
D	北海道	北海道	三重県	三重県	岡山県	岡山県
E	三重県	岡山県	北海道	岡山県	北海道	三重県
F	岡山県	三重県	岡山県	北海道	三重県	北海道

- (3) 福井県では、気候の特徴に影響を受けて、伝統工芸が発展しました。福井県で伝統工芸が発展した理由を、気候の特徴もふまえて、説明しなさい。

問4 ウメさんとサクラさんは、原爆の被害から復興した広島県と、東日本大震災^{だいしんさい}からの復興に向けて取り組んでいる岩手県という共通点に注目しました。次のウメさんとサクラさんの会話文中の空らん^{らん}に共通してあてはまる語句を答えなさい。

ウメさん： 東日本大震災では、岩手県^{いわてけん}を含む東北地方の太平洋側で、津波^{つなみ}による大きな被害を受けました。広島県は原爆の被害から奇跡^{きせき}的な復興をとげました。被爆^{ひばく}桜^{おう}が、被災^{ひさい}した方々のはげみになってくれると良いですね。

サクラさん： そうですね。東日本大震災では最大で約 40mの高さの津波^{つなみ}が押し寄せたそうです。津波が大きくなった要因として、東北地方の太平洋側の海岸にみられる()海岸という地形が関わっているようです。()海岸はもともと山地の谷になっていたところが海にしずんでできた地形なので、湾の奥^{おく}にある陸地に向かってせまくなっていくような地形になっており、そのことが津波を大きくする要因となったようです。

3 次の文章はモミジさん、カエデさんの会話です。モミジさんとカエデさんは、日本の貿易や輸送の特徴について話しています。これを読んで、後の問いに答えなさい。

モミジさん： アメリカの大統領がかわって、貿易に関する交渉がありましたね。

カエデさん： アメリカとさかんに貿易を行っている日本にとって、重要な課題ですね。①日本はどのような国々と貿易しているのでしょうか。

モミジさん： アジアの国々が中心ですが、アメリカは輸出・輸入ともに上位に入る国です。

カエデさん： そうなのですね。アメリカとの貿易関係がどうなるかというのは、国内の経済に対して非常に大きな影響がありそうですね。

モミジさん： そうですね。特に②自動車産業は日本の中心的な産業の1つであり、アメリカに対する自動車輸出額は輸出金額全体に占める割合が非常に大きいです。自動車の輸出がしばらく状況になると、日本の経済は大きな影響を受けますね。

カエデさん： なるほど。交渉が良い方向に向かっていくことを祈るばかりです。その他に、日本の貿易にはどのような特徴がありますか。

モミジさん： 日本は海に囲まれた島国で、資源の輸入が多いので、③船による輸送が多いですね。

カエデさん： 貿易の特徴は周辺の自然環境の影響も受けるのですね。貿易ではなく、国内の輸送はどういった特徴があるのでしょうか。

モミジさん： 国内の貨物輸送は主に鉄道、自動車、船、④飛行機が用いられています。また、⑤各輸送手段が占める割合は社会の変化とともに変わってきました。

カエデさん： 輸送手段の変化の背景には、日本の産業の変化が関係しているのですね。そういえば、ニュースで輸送業者の人手不足の問題が取り上げられていました。その解決のために⑥新しい輸送手段が現れるかもしれませんね。

モミジさん： そうですね。輸送手段は社会の変化とともに今後大きく変化していくのかもしれませんがね。

問1 下線部①に関して、次の表1中のア・イは、日本の主な輸出または輸入相手国と、日本の輸出額または輸入額全体に対して各国が占める割合をそれぞれ示しています。表1中のア・イは輸出と輸入のいずれかを示しています。輸入にあてはまるものを、ア・イから1つ選び、記号で答えなさい。

表1

ア	イ
アメリカ (20.2%)	中国 (22.4%)
中国 (17.6%)	アメリカ (10.1%)
韓国 (6.5%)	オーストラリア (8.6%)
タイ (4.1%)	アラブ首長国連邦 (4.9%)

(二宮書店『データブック オブ・ザ・ワールド 2025年版』より作成)

問2 下線部②に関して、次の(1)・(2)に答えなさい。

(1) 次の表2は、自動車を含む輸送用機械器具の生産上位都道府県と出荷額を示しています。表2について説明した後の文章を参考に、表2中の(あ)にあてはまる都道府県名を答えなさい。

表2

都道府県名	出荷額(億円)
愛知県	284,153
静岡県	46,435
神奈川県	37,789
広島県	35,257
(あ)	33,185

(矢野恒太記念会『データでみる県勢2025』より作成)

太平洋沿岸の都道府県が上位に入っていますが、広い土地や安価な労働力を求めて、大都市に近い内陸の都道府県にも生産地が広がっています。

(2) 次の図1は1970～1990年の日本の主な輸出品とそれぞれが輸出額全体に対して占める割合を示したものです。この時期の日本の輸出品には大きな変化がみられます。図1中のア～ウは鉄鋼、機械類、自動車のいずれかです。自動車にあてはまるものを、図1中のア～ウから1つ選び、記号で答えなさい。

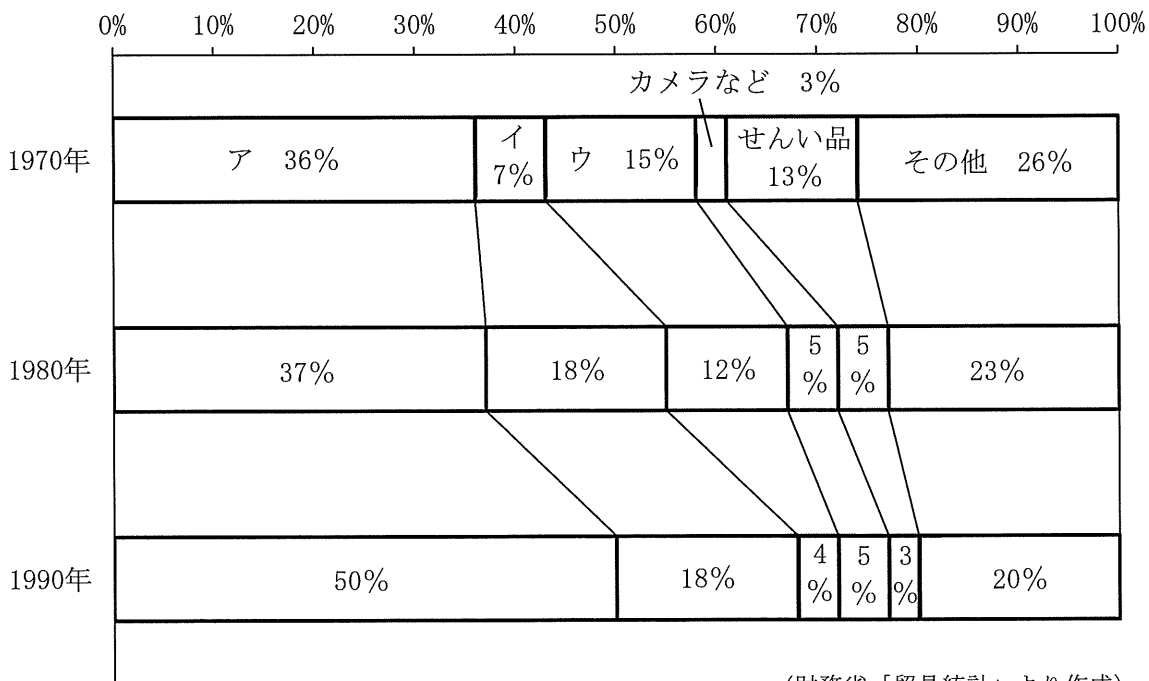
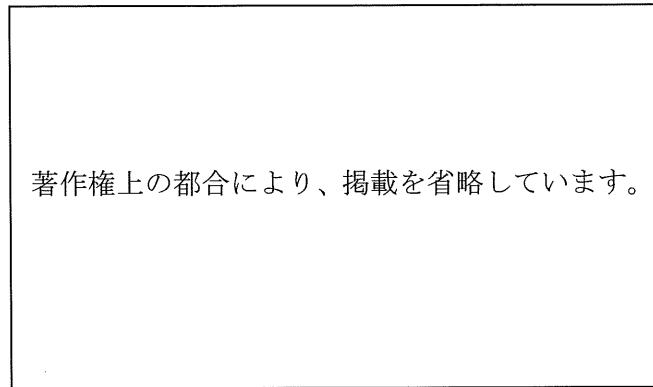


図1

問3 下線部③に関して、次の写真の船は、原油を輸入する際に用いられる船です。この船の名前を答えなさい。



(日本造船工業会ホームページより転載)

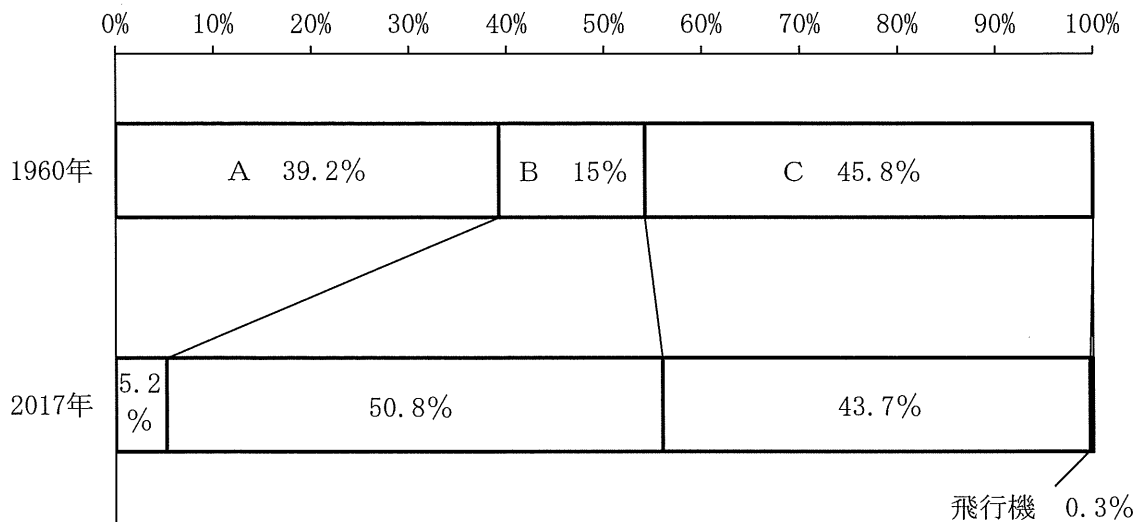
問4 下線部④に関して、次の表3は東京港、大阪港、成田国際空港、関西国際空港における輸入額の合計と輸入額の上位3位の品を示したものです。成田国際空港にあてはまるものを、表3中のア～ウから1つ選び、記号で答えなさい。

表3

港・空港名	輸入額の合計 (億円)	輸入額の上位3位の品		
		1位	2位	3位
東京港	153,130	機械類	衣類	肉類
ア	45,228	機械類	医薬品	科学光学機器
イ	188,306	機械類	医薬品	科学光学機器
ウ	61,694	機械類	衣類	肉類

(矢野恒太記念会『日本国勢図会 2025/26』より作成)

問5 下線部⑤に関して、次の図2は貨物輸送量における輸送手段別割合の変化を示したものです。図2をみて、後の(1)・(2)に答えなさい。



(矢野恒太記念会『数字でみる日本の100年改訂第7版』より作成)

図2

(1) 図2中のA～Cは鉄道、自動車、船のいずれかです。A～Cにあてはまる輸送手段の組合せとして正しいものを、次のア～カから1つ選び、記号で答えなさい。

	ア	イ	ウ	エ	オ	カ
A	鉄道	鉄道	自動車	自動車	船	船
B	自動車	船	鉄道	船	鉄道	自動車
C	船	自動車	船	鉄道	自動車	鉄道

(2) 図2中のBの輸送手段の割合が大きく増加した理由を答えなさい。

問6 下線部⑥に関して、モミジさんとカエデさんは、輸送業の課題の解決策について調べました。次のモミジさんとカエデさんの会話文中の空らん^⑥に共通してあてはまる語句を、カタカナ4字で答えなさい。

モミジさん： 人口が減っている過疎^{かそ}地域では、少ない荷物を個別に運ぶことが、輸送業者の負担^{ふたん}になっているようですね。

カエデさん： そのようですね。その解決策として、いま注目されているのが()です。全国の自治体で、主に山間部において()を使用して荷物を配送する実験が行われています。()を飛ばすには資格が必要で、操縦士^{そうじゅうし}が機体を直接確認できない状態で飛行させることになるので、法律^{ほうりつ}の整備が必要です。

モミジさん： ()が私たちのまちの空を飛んで荷物を運ぶ日も近そうですね。()であれば災害時に道路がとぎれても配送が可能なので、災害が多い日本においては、活用が期待されますね。

- 4 次の年表は、古代から明治時代までの日本の貨幣の歴史をまとめたものです。この年表を見て、後の問いに答えなさい。

時代等		出来事
古代		物々交換を中心にしていたが、徐々に米・布・塩などが貨幣のような役割を果たすようになった。このことを物品貨幣という。
飛鳥 奈良・平安	683年	中国の「開元通宝」をモデルとして(A)がつくられる。
	708年	(B)が作られる。それから250年の間に、金貨1種類、銀貨1種類、銅貨12種類が作られる。 その後、約600年間、日本で貨幣が作られることはなく、中国から輸入した貨幣が使われていた。
平安後期 鎌倉 室町		中国の(C)との貿易で砂金を輸出し、かわりに(C)の銅銭を輸入して日本国内で使っていた。
	1404年	中国の(D)と室町幕府との間に条約が結ばれ、貿易が始まる。銅銭はますます重要な輸入品となり、特に「永楽通宝」は人気があり、全国で使われた。
安土・桃山	16世紀中ごろ	金銀の採掘がさかんになり、金山や銀山を手に入れた①戦国大名は金貨や銀貨をつくった。
	1587年	②豊臣秀吉が金貨や銀貨をつくり始める。主にほうび用であった。
江戸		徳川家康が日本で初めて貨幣制度を統一し、全国で使うことができるように、金・銀貨をつくり始める。 ③徳川家光が銅銭である「寛永通宝」をつくり始める。
	1695年	元禄の改鑄という、金貨・銀貨の質を落として貨幣の数量を(E)、幕府の財政難を切り抜けようとした政策が行われたが、結果として物価が(F)、人々を苦しめることとなった。
		④ペリーが来航し、日本が開国へと歩み始めたころ、⑤日本と海外の金銀交換比率のちがいを利用してもうけようとする外国商人たちによって大量の金貨が海外へ流出した。
⑥明治	1868年	近代的な貨幣制度を整えるため、明治政府によって造幣局の建設工事が行われ、1870年に完成する。
	1882年	日本⑦銀行が設立される。

(造幣局ホームページを参考にして作成)

- 問1 年表中の(A)～(D)にあてはまる語句の組合せとして正しいものを、次のア～エから1つ選び、記号で答えなさい。

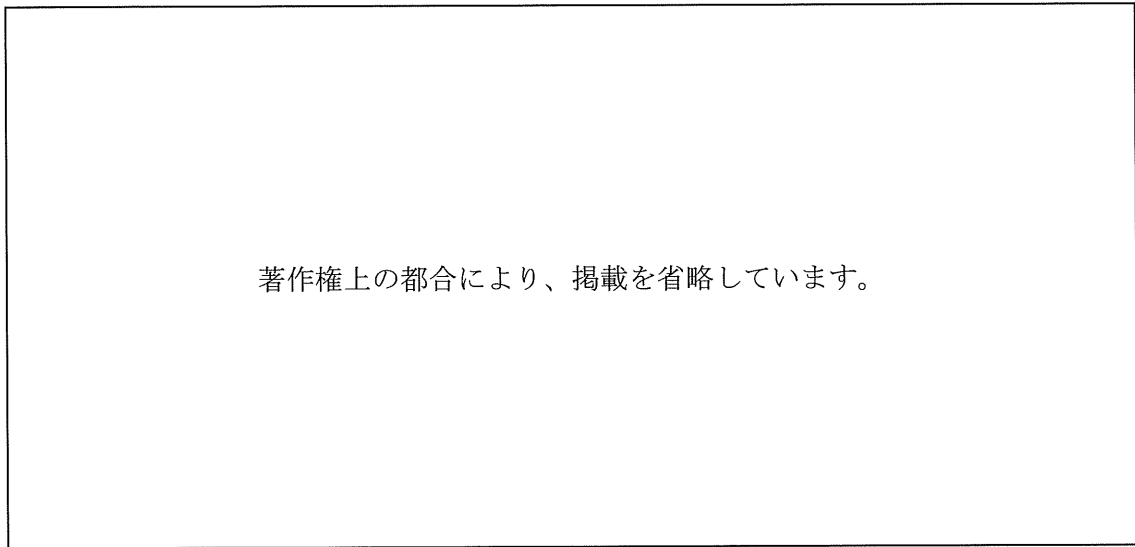
- ア A 和同開珎 B 富本銭 C 宋 D 萌
 イ A 和同開珎 B 富本銭 C 明 D 宋
 ウ A 富本銭 B 和同開珎 C 宋 D 明
 エ A 富本銭 B 和同開珎 C 明 D 宋

問2 年表中の(E)・(F)にあてはまる語句の組合せとして正しいものを、次のア～エから1つ選び、記号で答えなさい。

- ア E 増やし F 上がって イ E 増やし F 下がって
ウ E 減らし F 上がって エ E 減らし F 下がって

問3 下線部①に関して、次の(1)・(2)に答えなさい。

- (1) 次の図は、長篠の戦いを表したものである。この戦いでは、ある道具が有効に使われたことによってその後の戦い方に大きな変化をもたらしました。どのように変化したのかについて、図を参考に、簡単に説明しなさい。



(犬山城白帝文庫ホームページより転載)

- (2) 1600年に起こった、西軍と東軍に分かれての天下分け目の戦いとも呼ばれた出来事を何といいますか。

問4 下線部②に関して、この人物が行ったことを述べた文A～Dについて、正しいものの組合せを、後のア～エから1つ選び、記号で答えなさい。

- A さかんに商売が行われるように、新たに市場の税や関所をもうけた。
B 百姓たちから刀などの武器を取り上げて、反抗できないようにした。
C 海外に目を向け中国を征服しようと、自らが軍を率いて朝鮮に攻め込んだ。
D 大阪に城を築いて政治の拠点とし、金や銀の鉱山を支配した。

- ア A・C イ A・D ウ B・C エ B・D

問5 下線部③に関して述べた、次の文X・Yの正誤の組合せとして正しいものを、後のア～エから1つ選び、記号で答えなさい。

X 大名に対して、参勤交代を義務づけた。

Y オランダと中国に限り、貿易船の出入りを長崎に限って認める政策を行った。

ア X 正しい Y 正しい イ X 正しい Y 誤り

ウ X 誤り Y 正しい エ X 誤り Y 誤り

問6 下線部④に関して、次の(1)～(3)に答えなさい。

(1) この出来事の際に「泰平の 眠りをさます 上喜撰 たった四杯で 夜も眠れず」という歌が詠まれました。このような歌は何と呼ばれますか。

(2) この出来事の翌年に、アメリカと条約を結び国交を開きました。その条約を何といいますか。

(3) (2)の条約に関して述べた次の文X・Yの正誤の組合せとして正しいものを、後のア～エから1つ選び、記号で答えなさい。

X アメリカ船に食料や水、石炭などを与えることを認めた。

Y 下田と横浜の2つの港を開港した。

ア X 正しい Y 正しい イ X 正しい Y 誤り

ウ X 誤り Y 正しい エ X 誤り Y 誤り

問7 下線部⑤に関して、後の文章はなぜこのようなことが起こってしまったのかについて述べたものです。次の表を参考にして、後の文章中のあ～えから正しい方の記号を選び、その記号をそれぞれ答えなさい。

表 19世紀後半の金と銀のおおよその交換比率

	金	銀
日本	1 g	5 g
諸外国	1 g	15 g

日本では、諸外国に比べ金の価値が(あ A : 3 / B : 3分の1)倍であったため、外国商人たちが日本で(い C : 金を銀に / D : 銀を金に)交換して、他国で(う E : 金を銀に / F : 銀を金に)交換すると、もともと持っていた(え G : 金 / H : 銀)が3倍になるというからくりが成り立つので、そこに目をつけた外国商人たちが大量に交換したから。

問8 下線部⑥に関して、次の(1)・(2)に答えなさい。

(1) 次の文章があらわしている政治の方針のことを何といいますか。

- 一、日本のさまざまなことは、日本中から人を集めて、会議をして決めよう。
- 一、身分や立場に関係なく、日本を治めよう。
- 一、みんながそれぞれの役割を果たして、志を達成しよう。
- 一、これまでの悪い習慣を捨て、きちんとした方法でやっていこう。
- 一、世界のさまざまなことを学び、これまでの伝統を大切に、国を発展させよう。

(2) 明治時代の出来事X～Zを古いものから順番に正しく並べたものを、後のア～カから1つ選び、記号で答えなさい。

X 西南戦争が起こる。

Y 廃藩置県が行われる。

Z 日清戦争が起こる。

ア X→Y→Z

イ X→Z→Y

ウ Y→X→Z

エ Y→Z→X

オ Z→X→Y

カ Z→Y→X

問9 下線部⑦に関して、この当時多くの銀行が設立されるようになりましたが、日本初の民間銀行の設立に尽力した人物として正しいものを、次のア～エから1つ選び、記号で答えなさい。

ア 福沢諭吉

イ 板垣退助

ウ 木戸孝允

エ 渋沢栄一

問10 貨幣に関して、日本でも徐々にキャッシュレス化が進みつつあります。そのことに関する疑問あ・いと、それぞれの調べ方として最も適当なものa～dとについて、組合せとして正しいものを、後のア～エから1つ選び、記号で答えなさい。

【疑問】

あ 日本ではどのくらいキャッシュレス化が行われているのだろうか。

い なぜ日本ではキャッシュレス化があまり進まないのだろうか。

【方法】

a この時期までの日本のキャッシュレスによる決済の割合の推移を調べる。

b 現在の日本のもっとも利用したい支払い手段に関する割合を調べる。

c キャッシュレス化によるメリットとデメリットを調べて原因を探る。

d キャッシュレスによる決済の割合を諸外国と比較して原因を探る。

ア あ-a い-c イ あ-a い-d

ウ あ-b い-c エ あ-b い-d

問 11 貨幣に関して、米などの物品貨幣よりも、銭などの貨幣の方が優れていると思われる理由として誤っているものを、次のア～ウから1つ選び、記号で答えなさい。

- ア どんな時でも価値が変わることがないから。
- イ 軽くて持ち運びやすいから。
- ウ 長期間の保管が可能だから。

5 次の会話文を読んで、後の問いに答えなさい。

- ウ メさん： 2025年に大阪・関西万博が開かれたね。
- サクラさん： 私は昨年の夏に行って、すごく暑かったけど、とても楽しかった。パビリオンをいくつか回ったけど、どこも特徴があったよ。そういえば、「万博」ってどんなものなのかな。
- ウ メさん： 正式名称は「国際博覧会」または「万国博覧会」って言うんだよ。1928年に結ばれた国際博覧会条約に基づいて開催されているんだ。もともとは世界中のヒトとモノが出会う場として開かれたようだね。
- サクラさん： 「万博」はいつから始まったのかな。
- ウ メさん： 世界で初めて「万博」が開かれたのは、1851年のイギリスのロンドンだよ。その後、日本が国として「万博」にブースを出したのは、①1870年代のことになるよ。
- サクラさん： 「万博」というと、日本では1970年の大阪万博のときにつくられた太陽の塔が有名だけど、同じように「万博」を記念してつくられたものはあるのかな。
- ウ メさん： たとえば、フランスのエッフェル塔がそれにあたるね。②1889年のパリ万博を記念して、その当時の技術を活用してつくられた建物なんだ。
- サクラさん： 日本で初めて行われた「万博」はいつになるんだろう。
- ウ メさん： 日本では、1940年に東京で初めての「万博」が開催される予定があったんだけど、③戦争の影響で中止になってしまったんだ。そして、実際に初めて行われたのは、さっき話していた1970年の大阪万博になるよ。この「万博」では、④日本の高度経済成長を世界に知らせる機会となって、日本国内では「万博」が大きな社会現象となったみたいだよ。
- サクラさん： なんだか大阪での開催が多いような気がするけど、他にも大阪で行われたことはあるのかな。
- ウ メさん： 今回と1970年以外では、大阪で⑤1990年に「国際花と緑の博覧会」が開かれたことがあるよ。これは今回のような総合的なものではなく、テーマを特別な分野にしばった形で行われたものだね。1990年代には「万博」に関する決議があつて、今後「万博」を行う際には、「現代社会の要請に^{こた}えられる今日的なテーマ」を定めなければならないという決まりができたんだ。
- サクラさん： だから、今回の「万博」は「いのち輝く未来社会のデザイン」というテーマだったんだね。今後開かれる「万博」はどうなっていくんだろう。楽しみだね。

問1 下線部①に関して、明治政府が積極的に万博に参加するのは、ある一団が1871年から欧米各国の最新技術・制度を視察したことがきっかけでした。その一団のことを何といいますか。

問2 下線部②に関して、次の(1)～(3)に答えなさい。

(1) 1889年は、日本では大日本帝国憲法が^{はつぷ}発布された年にあたります。この憲法において^{しゅけんしや}主権者とされるのは誰になりますか。

(2) 大日本帝国憲法を作るのに尽力した初代^{ないかく}内閣総理大臣を務めた人物は誰ですか。

(3) 1890年にはじめての衆議院議員選挙が行われましたが、どのような人に選挙権が与えられましたか。簡単に説明しなさい。

問3 下線部③に関して、次の(1)・(2)に答えなさい。

(1) 日本がハワイにあるアメリカの軍港などを攻撃したことで始まった戦争のことを何といいますか。

(2) 1930年代後半から1940年代前半の日本の様子について述べた文章として誤っているものを、次のア～エから1つ選び、記号で答えなさい。

- ア 日本は、中国と戦争状態にあった。
- イ 日本は、ドイツやイギリスと同盟を結んだ。
- ウ 日本では、米が配給制となっていた。
- エ 日本では、小学生が集団疎開をしていた。

問4 下線部④に関して、当時の日本の様子について述べた次の文X・Yの正誤の組合せとして正しいものを、後のア～エから1つ選び、記号で答えなさい。

- X 国民の生活も豊かになり、「3C」にかわって「三種の神器」が普及するようになった。
- Y 国民総生産額が資本主義国のなかでアメリカに次いで世界第2位となった。

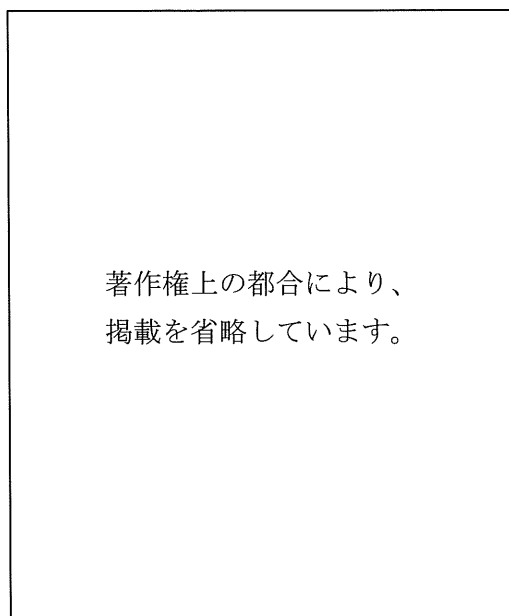
- ア X 正しい Y 正しい
- イ X 正しい Y 誤り
- ウ X 誤り Y 正しい
- エ X 誤り Y 誤り

問5 下線部⑤に関して、1980年代後半から土地や株などの価格が本来の価値よりも高くなる状況でした。このような経済状況のことを()経済と呼びます。()にあてはまる語句をカタカナで答えなさい。

6 カエデさんは2025年の出来事について、日記をつけています。これらの日記を読んで、後の問いに答えなさい。

<p>1月29日</p> <p>やむを得ない理由で働けない人などを助けるための生活保護について、厚生労働省によって支払われるお金が引き下げられたことは違法であったと、福岡高等裁判所で、判決が出されました。一審とは判決が変わり、生活の苦しい人が助かるのでよかったです。でも、国は①<u>さらに裁判を続ける</u>のかな？</p>	<p>2月12日</p> <p>広島・大阪などの高等裁判所は、選挙区間の②<u>一票の格差</u>が大きかった去年10月の衆議院議員の選挙について「平等の要求に反する状態にあったとはいえない」として、憲法に合っていると判断したそうです。一票の価値が違ってても平等って、なんか不思議な感じがしました。</p>
<p>3月3日</p> <p>③<u>国際司法裁判所</u>の判事の岩澤雄司さんが任期途中で辞職したレバノンの人に代わって所長に選出されたそうです。国際的に活躍できる人って懂れます。私も将来国際機関で働きたいなあ。</p>	<p>④<u>4月3日</u></p> <p>アメリカのトランプ大統領が、貿易の政策として「相互関税」というお互いの国に同じ率の関税をかけることにし、日本には24%の関税を課すことにしたそうです。関税って歴史で習ったことがあるけど、経済にどんな影響があるのだろう。</p>
<p>⑤<u>5月31日</u></p> <p>農林水産大臣の小泉進次郎さんが政府備蓄米を販売できるようにしました。それが一般のお店で販売され始めました。通常売られているおおよそ半額の5キロあたり約2,160円だそうです。これでお米がたくさん売られることになって値段も下がるかな？</p>	<p>6月27日</p> <p>今日広島では梅雨明けが発表されました。統計を取り始めて以来最も早く、18日しかなかったそうです。今年みたいに雨が少ないこともあれば、8年前の⑥<u>西日本豪雨</u>のようにものすごい被害を出すこともあります。こんな不思議な気候になるのは、地球の温暖化が進んでいるからなのかな、と思いました。</p>
<p>7月20日</p> <p>参議院議員の選挙が行われました。与党の議席数は、今回は選挙をせずにそのままだった議席と合わせて122議席となり、衆議院に続き過半数を割り込むことになったそうです。内閣総理大臣の石破茂さんにとってこの後の政治はやりづらそうだなと思いました。</p>	<p>8月1日</p> <p>7月の参議院議員の選挙の結果を受けて、新たな⑦<u>国会</u>が始まりました。今回は8月5日までだそうです。国会の期間がとても短いなと思いました。他の国では一年中議会をやって臨機応変に対応するそうですが、なぜ日本ではそうしないのかな？</p>
<p>9月5日</p> <p>イスラエル国内での紛争で、パレスチナ自治区の中の(⑧)地区では、日々多くの人々が亡くなっています。それを止めるため、フランス、イギリス、カナダ、オーストラリア、ベルギーなどもパレスチナ自治区を国として認める方針を表明したそうです。停戦に応じないイスラエルに圧力をかけ、和平の実現を後押しするのがねらいのようです。</p>	<p>10月4日</p> <p>自民党のリーダーを決めるための総裁選が行われました。全員で5人が立候補した中で高市早苗さんが選ばれました。自民党で初めての女性の総裁で、この後、開かれる国会で首相になると、史上初の女性首相となるそうです。でも、国会で自民党は過半数に達してないので、どうやって首相に選ばれるんだろう？</p>

問1 下線部①について、次の図にあるように、同じ事件について3回まで裁判を受けることができます。その理由を簡単に説明しなさい。なお、その際に「まちがい」・「守る」という語句を使用し、その語句に下線をひくこと。



(政府広報オンラインホームページより転載)

問2 下線部②について、次の表は2024年10月の衆議院議員選挙における選挙区ごとの有権者数を表したものです。この選挙の時の一票の格差は最大何倍でしたか。次の表を参考に、数字で答えなさい。なお、解答は小数点第一位を^{ししごにゅう}四捨五入して整数で答えること。

もっとも有権者数が多い選挙区			もっとも有権者数が少ない選挙区		
	選挙区	有権者数(人)		選挙区	有権者数(人)
1位	北海道3区	461,457	1位	とっとり 鳥取1区	224,060

(総務省ホームページより作成)

問3 下線部③について、この組織が属している国際機関を何といいますか。

問4 下線部④の4月3日の日記に関して述べた文として正しいものを、次のア～エから1つ選び、記号で答えなさい。

- ア アメリカの商品が日本に輸入される時、24パーセントの税金はかからない。
- イ 日本の商品がアメリカに輸出される時、100円のものに、124円の税金がかかる。
- ウ アメリカでは、外国製品に関税がかかる分、ものの値段が高くなる可能性が高まる。
- エ 日本では、自国製品に関税がかかる分、ものの値段が下がる可能性が高まる。

問5 下線部⑤の5月31日の日記に関して述べた次の文X・Yについて、この月の日記と同じような経済の働きをしているかどうかの正誤の組合せとして正しいものを、後のア～エから1つ選び、記号で答えなさい。

X アイドルグループのグッズがとても人気があるので、なるべく多くの人を買えるように予約販売にして値段を一定にした。

Y 人気の観光地のホテルの1泊^{ぼく}の値段がとても高額になっていたが、その後ホテルがたくさん建てられた影響で、1泊の値段が下がっていった。

ア X 正しい Y 正しい イ X 正しい Y 誤り
ウ X 誤り Y 正しい エ X 誤り Y 誤り

問6 下線部⑥に関して、このような自然災害による被害を防いだり軽減したりすることを目的として、災害想定地域や、避難場所・避難経路などを示した地図のことを何といいますか。

問7 下線部⑦について、国会の仕事として適切でないものを、次のア～エから1つ選び、記号で答えなさい。

ア 国で唯一^{ゆいいつ}法律を作ることができる。
イ 外国と条約を結ぶことができる。
ウ 国会議員の中から総理大臣を指名することができる。
エ 裁判官^{さいばんかみん}をやめさせることができる。

問8 日記中の(⑧)にあてはまる語句を答えなさい。

問9 次の文X・Y・Zについて、1月から10月の日記を参照しつつ、その正誤の組合せとして正しいものを、後のア～クから1つ選び、記号で答えなさい。

X 現在の参議院において、自民党が持っている議席の数は122議席である。

Y イギリスとフランスは、イスラエルに停戦の圧力をかけるため、パレスチナ自治区を国として認めた。

Z 内閣総理大臣は、衆議院議員から選ぶので、その投票は衆議院でのみ行われる。

ア X 正しい Y 正しい Z 正しい イ X 正しい Y 正しい Z 誤り
ウ X 正しい Y 誤り Z 正しい エ X 正しい Y 誤り Z 誤り
オ X 誤り Y 正しい Z 正しい カ X 誤り Y 正しい Z 誤り
キ X 誤り Y 誤り Z 正しい ク X 誤り Y 誤り Z 誤り

社会 解答用紙

名前	
----	--

受験 番号					
----------	--	--	--	--	--

点

1

--

問1	(1)	(2)	(3)	(4)	(5)
問2	(1)	(2)	(3)	(4)	(5)

()

()

2

--

問1	(1)	(2)	問2	(1)	(2)	問3	(1)		(2)
								岡山	鹿児島
							問4		
(3)							問4		
							海岸		

()

()

3

--

問1	問2	(1)	(2)	問3	問4	問5	(1)
(2)				問6			

()

()

4

--

問1	問2	問3	(1)						
(2)		問4	問5	問6	(1)	(2)	(3)		
問7	あ	い	う	え	問8	(1)	(2)	問9	問10
問11									

()

()

()

()

5

--

問1		問2	(1)	(2)
(3)			(1)	(2)
			問4	問5
			問3	

()

()

6

--

問1				問2		問3	
				倍			
問4	問5	問6		問7	問8		問9

()

()