

3 社会

*** 開始の合図があるまで、開いてはいけません ***

試験が始まるまで、下の〔注意事項〕を読んでおいてください。

〔注意事項〕

- ・ 問題用紙は表紙をふくめて11枚、解答用紙が1枚あります。
- ・ 解答はすべて解答用紙に記入してください。
- ・ 社会の試験時間は、45分です。
- ・ 印刷の見えにくい場合のほかは、質問を受けません。
- ・ ホッチキスは、はずしてもかまいません。
- ・ 必要なものは、えんぴつ、消しゴム です。

1 次の各問いに答えなさい。

問1 次の(1)～(5)の文中の空らんに入る語句をそれぞれ答えなさい。

- (1) 関東地方とは一般的に1都6県を指し、東京都・神奈川県・埼玉県・千葉県・茨城県・栃木県・()県が含まれます。
- (2) 日本近海では太平洋側・日本海側ともに、暖かい海流と冷たい海流がぶつかる場所である()があるため、好漁場となっています。
- (3) 東北地方の太平洋側では、春から夏に冷たく湿った東寄りの風が吹きます。この風を()といい、農産物の生育に大きな影響を与えています。
- (4) 次の表は2018年産の米(水稲)の収穫量上位5道県を示したものです。表中のAに入るのは()県です。

表 2018年産の米(水稲)の収穫量上位5道県(単位:t)

道県名	米の収穫量
A	627,600
北海道	514,800
秋田県	491,100
山形県	374,100
宮城県	371,400

(『データでみる県勢2020年版』より作成)

- (5) 日本の三大工業地帯は京浜工業地帯、中京工業地帯と()工業地帯です。

問2 次の(1)～(5)の人物を答えなさい。

(1) 次の史料について、このきまりを定めた人物はだれですか。

第1条 人の和を第一にしなればなりません。
第2条 仏教をあつく信仰しなさい。
第3条 天皇の命令は必ず守りなさい。

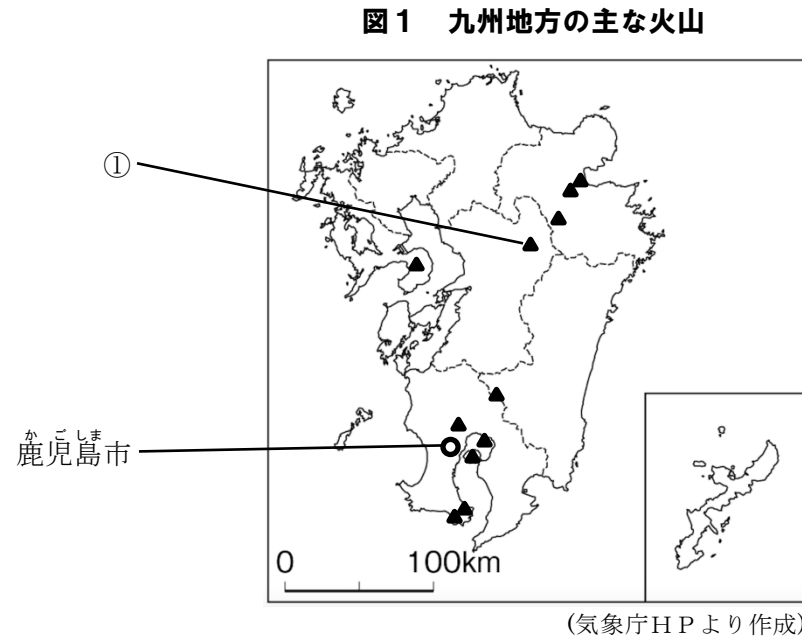
(2) 平安時代に天皇家と結びつき、摂政となった人物で次の歌をよんだのはだれですか。

この世をば わが世とぞ思う もち月の かけたることも なしと思えば

- (3) 室町時代に、中国で絵の技術をみがき、すみ絵(水墨画)を芸術として大成した人物はだれですか。
- (4) 江戸幕府の命令で全国を測量し、正確な日本地図をつくった人物はだれですか。
- (5) 明治時代の外務大臣で、イギリスと交渉し領事裁判権をなくすことに成功した人物はだれですか。

2 九州地方に関する次の問いに答えなさい。

問1 九州地方には多数の火山がみられます。次の図1は九州地方にみられる主な火山の分布を示したものであり、図中の「▲」は火山を示しています。図1をみて、後の(1)・(2)に答えなさい。



- (1) 図1中の①の火山は世界有数のカルデラをもつ火山です。この火山の名前を答えなさい。
- (2) 火山が人々の生活にもたらす影響について述べた次の文X・Yの正誤の組み合わせとして正しいものを、後のア～エから1つ選び、記号で答えなさい。

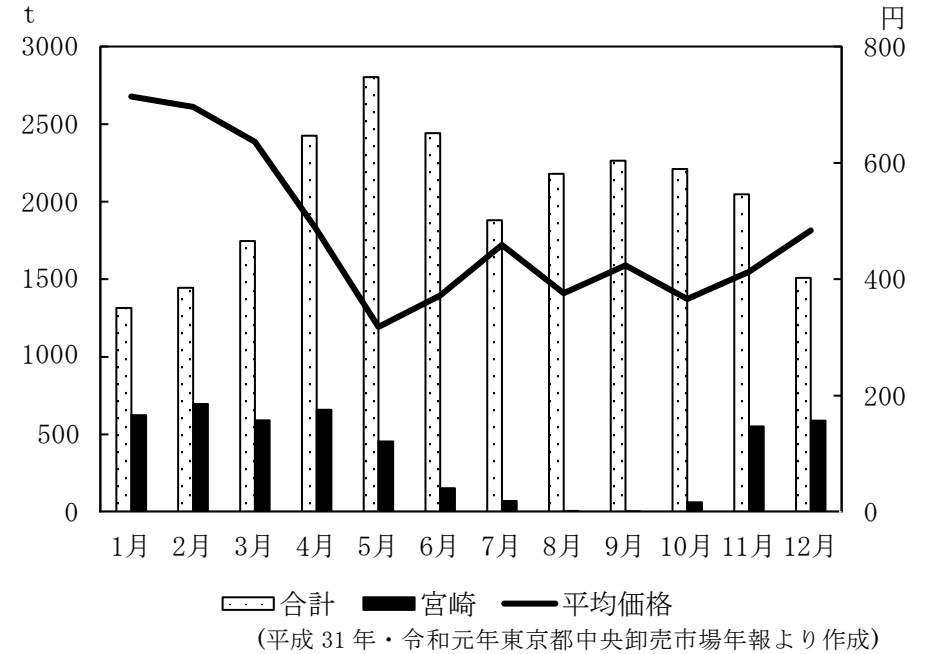
X 温泉は火山がもたらす自然のめぐみの一つであり、大分県は温泉の源泉数が日本一多い県である。

Y 鹿児島県では火山灰が降る日が多く、鹿児島市は風向き関係上、冬の時期にその日数が多くなる。

- ア X 正しい Y 正しい イ X 正しい Y 誤り
 ウ X 誤り Y 正しい エ X 誤り Y 誤り

問2 宮崎県はピーマンの生産がさかんです。次の図2は東京中央卸売市場におけるピーマンの月別入荷状況と平均価格を示しています。図2から宮崎県の出荷の特徴について述べた後の文中の(あ)に入る語句と、(い)に入る文を簡単に答えなさい。

図2 東京中央卸売市場におけるピーマンの月別入荷状況と平均価格



宮崎県のピーマン栽培は、作物の生育を早める(あ)を行うことにより、(い)という工夫を行っている。

問3 長崎県は水産業がさかんです。次の表1中のア～ウは北海道、静岡県、長崎県のいずれかの海面漁業漁獲量、海面養殖業収穫量、海面漁業産出額(養殖業も含む)を示したものです。長崎県にあてはまるものを表1中のア～ウから1つ選び、記号で答えなさい。

表1 北海道、静岡県、長崎県の海面漁業に関する統計

	海面漁業 漁獲量(t)	海面養殖業 収穫量(t)	海面漁業 産出額(億円)
ア	738,957	82,418	2,752
イ	202,227	2,723	604
ウ	317,069	23,104	1,057

(『データでみる県勢2020年版』より作成)

問4 九州地方では、1970年代からIC(集積回路)などの電子部品を生産する工場が多数進出しました。そのことから九州地方は何と呼ばれるようになりましたか。

問5 産業別人口割合にはその地域の特徴が反映されます。次の表2中のア～エは東京都、愛知県、佐賀県、沖縄県のいずれかの産業別人口割合を示したものです。沖縄県にあてはまるものを表2中のア～エから1つ選び、記号で答えなさい。

表2 東京都、愛知県、佐賀県、沖縄県の産業別人口割合(単位：%)

	第1次産業	第2次産業	第3次産業
ア	4.0	15.4	80.7
イ	2.1	32.7	65.3
ウ	8.4	21.4	66.7
エ	0.5	15.8	83.7

(『データでみる県勢2020年版』より作成)

問6 福岡県北九州市は戦前より工業の中心地としてさかえてきました。いま現在も工業は重要な産業ですが、新たな産業にも力を入れています。北九州市の産業について述べた次の文章中の(う)～(お)にあてはまる語句を解答らん^のの字数に合わせてそれぞれ答えなさい。なお、(お)はアルファベットで解答すること。

北九州市は明治時代に官営八幡製鉄所が開かれて以来、重工業が発展しました。しかし、1960年代には大気汚染や水質汚濁といった深刻な(う)問題が起きました。北九州市はその反省から、1997年に国の認定を受けて「北九州エコタウン事業」を開始し、ある産業から出る廃棄物を新たに他の分野の原料として活用する(え)に力を入れ始めました。その結果、北九州市の取り組みは国内外で注目されており、持続可能な開発を推進する都市として国が認定する「(お)未来都市」に選ばれています。

3 次の文章は、地域の活性化に興味を持っているコウキさんとマリナさんの会話です。これを読んで、後の問いに答えなさい。

コウキさん: この前みたテレビで、日本は人口が減少していて、地方の町や村だけじゃなくて、地方の都市もすい退^{すい}していくかもしれないって言うけど広島市は大丈夫かな?

マリナさん: それは大変だ。広島市の現状については、①人口ピラミッドを見たらわかりそうだね。

コウキさん: 人口が多いか少ないかだけではなくて、年齢別にみる必要があるだね。

マリナさん: 人口が減少しないようにするため、また地域を活性化していくためには若い世代が増えることが必要だよ。でも、どうやったら若い世代が広島市で増えるのかな?

コウキさん: 地方の活性化を進めるために2020年7月に「まち・ひと・(あ)創生基本方針2020」が閣議決定されたってニュースでみたけど、やっぱり生活のための(あ)が大切なかもしれないね。

マリナさん: なるほどね。若い世代に広島市で生活してもらうためには(あ)があるっていうのは大切だね。

そういえば、人口が減少することで、地方公共団体の税収が減ってしまうことが心配されているって聞いたよ。税金を納めているのは主に(あ)をしている世代だから、その世代の減少は特に大きな影響がありそうだね。

コウキさん: そうだね。だから、地方公共団体は様々な工夫をして税収を確保しようとしているようだね。それに関することだと、「(い)納税」がよく話題になるよね。応援したい地方公共団体に寄付をすると、いつも払っている税金が少なくなったり、寄付のお礼として②地域の特産品がもらえるんだって。

マリナさん: おもしろい取り組みだね。地方の活性化についてもっと知りたくなったな！広島を盛り上げるために何ができるのか考えてみよう！

問1 文章中の(あ)に入る語句を、ひらがな3文字で答えなさい。

問2 文章中の(い)に入る語句を、ひらがな4文字で答えなさい。

問3 下線部①について、コウキさんとマリナさんは広島県にある広島市の人口ピラミッド(図1)と神石高原町の人口ピラミッド(図2)を作成し、それらを比べてわかったことを文章にまとめました。これらについて後の(1)・(2)に答えなさい。

図1 2015年の広島市(119万1030人)の人口ピラミッド

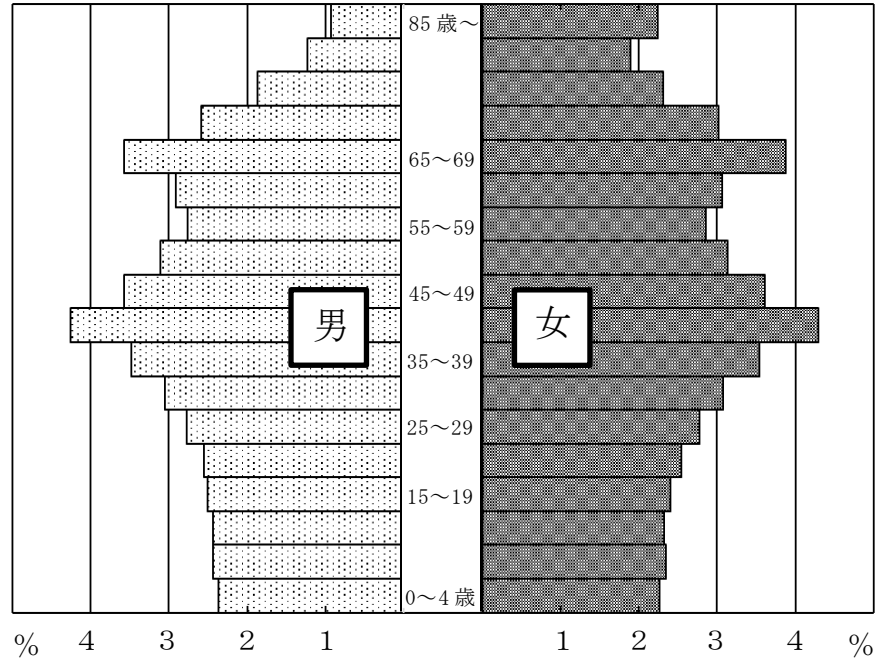
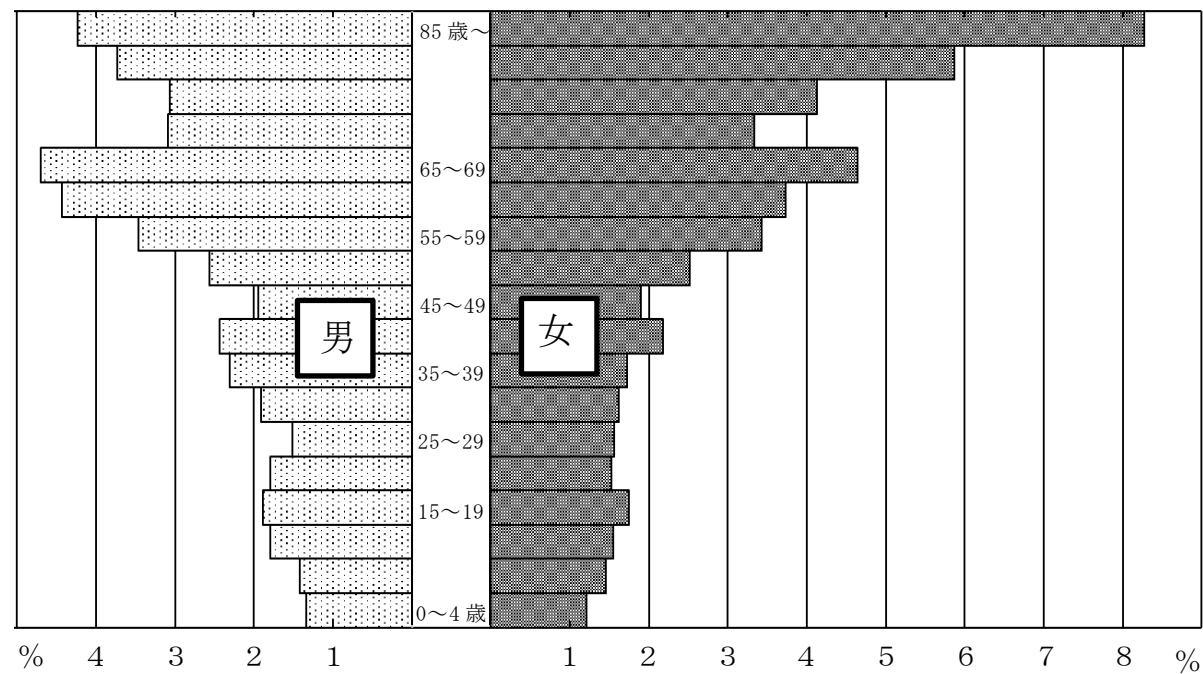


図2 2015年の神石高原町(9,767人)の人口ピラミッド



(図1・2ともに「平成28年1月1日住民基本台帳年齢階級別人口(市区町村別)(総計)」より作成)

広島市と神石高原町の人口ピラミッドを比べてみると、神石高原町は広島市よりも65歳以上の人口割合が(A)ことがわかります。しかし、広島市でも40～44歳をピークに、それ以下の年齢の人口割合は、低い年齢ほど下がっていく傾向がみられ、この傾向が続けば広島市も神石高原町と同じように(う)化が進行する可能性があります。

また2つの市町に共通するのは、65歳以上の人口割合はいずれも男性よりも女性の方が(B)ということです。

(1) 文章中の(A)・(B)に入る語句の組み合わせとして正しいものを次のア～エから1つ選び、記号で答えなさい。

- ア A 高い B 高い イ A 高い B 低い
- ウ A 低い B 高い エ A 低い B 低い

(2) 文章中の(う)にあてはまる語句を答えなさい。

問4 下線部②について、次の(1)・(2)に答えなさい。

(1) 広島県尾道市の生口島ではレモンが特産品として栽培されています。次の表は生口島と東京都の2019年の月別降水量を示しています。生口島のレモン栽培と瀬戸内の自然環境について述べた次ページの文章中の(え)～(か)に入る語句をそれぞれ答えなさい。

表 生口島と東京都の2019年の月別降水量(単位: mm)

	1月	2月	3月	4月	5月	6月
生口島	27.0	35.0	86.5	59.0	19.0	97.5
東京都	16.0	42.0	117.5	90.5	120.5	225.0

	7月	8月	9月	10月	11月	12月
生口島	161.5	130.0	47.5	78.5	20.5	58.0
東京都	193.0	110.0	197.0	529.5	156.5	76.5

(『理科年表2020』より作成)

問題は次のページに続きます。

生口島はレモン栽培で有名です。レモン栽培が盛んになった要因の一つに瀬戸内の自然環境があげられます。

表より生口島と東京都の降水量を比較すると、生口島は年間を通して降水量が(え)ことがわかります。また温暖な気候でもあり、このような気候がレモン栽培に適しています。

また瀬戸内は南は(お)山地、北は(か)山地にはさまれており、その二つの山地が風をさえぎることで、おだやかな気候となっています。風が強いと葉や果実が傷つき、病気になる原因となります。瀬戸内のおだやかな気候もレモン栽培に適しています。

(2) 次の写真ア～ウは岩手県奥州市、新潟県燕市、愛媛県今治市のいずれかの特産品を示したものです。岩手県奥州市の特産品にあてはまるものをア～ウから1つ選び、記号で答えなさい。

ア	イ	ウ
著作権上の都合により、掲載を省略しています。	著作権上の都合により、掲載を省略しています。	著作権上の都合により、掲載を省略しています。

問5 コウキさんとマリナさんは、地域の活性化に興味を持ち、地域調査に出かけることにしました。地域調査の方法について述べた次の文X・Yの正誤の組み合わせとして正しいものを、後のア～エから1つ選び、記号で答えなさい。

X 地域中心部にどのようなお店があるのかを事前に調べるために、地形図を利用した。
 Y 商店街の取り組みを知るために、お店の方にインタビューを行った。

- | | |
|---------------|--------------|
| ア X 正しい Y 正しい | イ X 正しい Y 誤り |
| ウ X 誤り Y 正しい | エ X 誤り Y 誤り |

4 次の文章を読んで、後の問いに答えなさい。

日本最古の印章(はんこ)は、①日本に稲作が広がって小さな国々ができはじめた時代に、「奴国」の王が中国の皇帝から授かった金印だとされています。しかし、この時期には印章は本格的に使われていなかったようです。8世紀はじめ、②律令がつくられると、中国でおこなわれてきた印章を役所の公式な文書におす制度が導入されました。

③平安時代末から武士の時代が始まりました。武士の出す文書には、印章よりも花押という簡略化されたサインが使われることが多くなりました。その後、④室町幕府がおとろえて戦国時代になると、戦国大名の中には、花押を書く手間を省くために、公式な文書に印章を用いる者があらわれました。⑤天下統一をめざす武将たちがあらわれ、戦乱の時代が終わって平和な時代になると、武士から百姓に至るまで印章を使うようになりました。私的な取引に関する文書にも印章をおすようになり、日常生活のすみずみまで印章を使う習慣が定着しました。

⑥近代化政策を推し進めた明治政府は欧米諸国にならって本人によるサインを重視しようとしたのですが、多くの反発を買うことになりました。結果、印章をさまざまな場面で使う日本独自の「はんこ文化」は残ることになり、現在に至っています。

問1 下線部①について、次の(1)・(2)に答えなさい。

(1) このころの生活や社会について述べた文として正しいものを、次のア～エから1つ選び、記号で答えなさい。

- ア 日本各地で前方後円墳がつけられた。
- イ 占いやまじないによる政治は見られなくなった。
- ウ ほりやさくに囲まれた集落があった。
- エ 大陸から漢字や仏教が伝わった。

(2) 次の図は、稲の収穫に使われた道具です。この道具を何といいますか。

著作権上の都合により、掲載を省略しています。

問2 下線部②のころの民衆について述べた次の文X・Yの正誤の組み合わせとして正しいものを、後のア～エから1つ選び、記号で答えなさい。

- X 兵士として都や九州を守る負担が民衆に課せられた。
- Y 民衆たちの間で盆踊りの風習が広がった。

- ア X 正しい Y 正しい イ X 正しい Y 誤り
- ウ X 誤り Y 正しい エ X 誤り Y 誤り

問3 下線部③について、次の年表はこの時期に活躍した人物のものです。その人物を答えなさい。

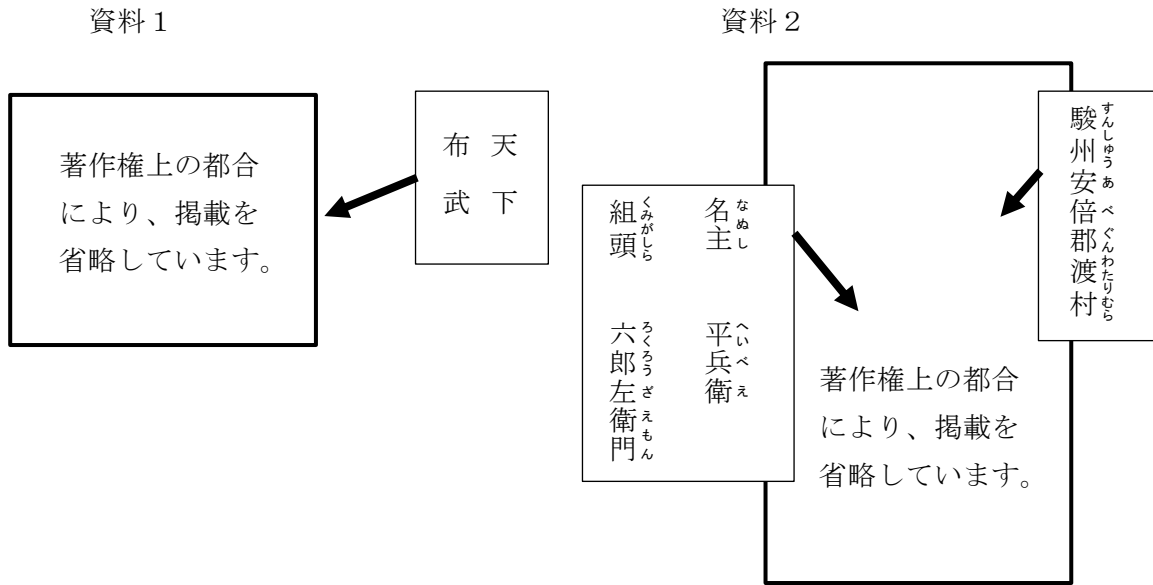
年	できごと
1118年	生まれる。
1156年	保元の乱で後白河天皇に味方する。
1167年	太政大臣になる。
1172年	自分の娘を天皇のきさきとする。
1180年	中国貿易をさかんにするため、港の工事を行う。

問4 下線部④に関して述べた次の文X～Zを古いものから順番に正しく並べたものを、後のア～カから1つ選び、記号で答えなさい。

- X 足利義満が京都北山に金閣をつくらせた。
- Y 将軍のあと継ぎ争いがきっかけで応仁の乱がおこった。
- Z 足利尊氏は京都の北朝に味方し、後醍醐天皇の南朝と戦った。

- ア X→Y→Z イ X→Z→Y ウ Y→X→Z
- エ Y→Z→X オ Z→X→Y カ Z→Y→X

問5 下線部⑤に関して、次の資料1・2について述べた文a～dのうち正しいものの組合せを、後のア～エから1つ選び、記号で答えなさい。



- a 資料1の印章を使った人物は、城下町で誰でも商売ができるようにした。
- b 資料1の印章を使った人物は、二度にわたる朝鮮出兵を行った。
- c 資料2からこの村の代表となる百姓が印章を使っていたことがわかる。
- d 資料2からこの村を治めていた武士が印章を使っていたことがわかる。

ア a・c イ a・d ウ b・c エ b・d

問6 下線部⑥について、次の(1)・(2)に答えなさい。

(1) 明治政府は地租改正を行い、次の表のように税の仕組みを改めました。この改革の目的を簡単に説明しなさい。

	改革前(江戸時代)	改革後(明治時代)
課税の基準	収穫高	土地の価格
税を収める方法	米で納める	現金で納める

(2) 明治政府の政策に関して述べた次の文X～Zを古いものから順番に正しく並べたものを、後のア～カから1つ選び、記号で答えなさい。

- X 自由民権運動の高まりをうけて、政府は10年後に国会を開くことを約束した。
- Y 天皇が国民に与えるという形式で大日本帝国憲法が公布された。
- Z 西郷隆盛と政府に不満をもつ士族が起こした反乱が、政府によってしずめられた。

ア X→Y→Z イ X→Z→Y ウ Y→X→Z
 エ Y→Z→X オ Z→X→Y カ Z→Y→X

5 病気や医療に関する次の文章A～Fを読んで、後の問いに答えなさい

A 735年、九州の北部で流行した天然痘は、その2年後には平城京において猛威をふるい、たくさんの感染者や死亡者を出しました。聖武天皇のまわりの貴族にも天然痘で亡くなる者がいました。①中国から帰国した使者たちが病気を持ち帰ったといわれています。その後九州で起こった反乱も重なって、②人々は大きな不安をいだくようになりました。

B 13世紀を通じて拡大を続けたモンゴル民族の国家は、ユーラシア大陸を東西につなぐ大帝國となりました。③東西の交流が活発になったことで、アジアのノミやネズミがヨーロッパに持ち込まれ、14世紀にペストという病気が大流行したといわれています。

C 江戸時代に西洋の医学を日本へ持ち込もうと、たくさんの医師や蘭学者たちが努力しました。④杉田玄白らがオランダ語で書かれた解剖書を翻訳したり、シーボルトが日本人のために医学を教えたりしました。

D 1858年7月、⑤長崎の町、また、港にいる船の中に多数のコレラ患者がいることが分かりました。コレラは、もともとはインドの風土病であり、19世紀にヨーロッパやアジアなどで大流行し、さらに日本にも広がりました。

E 19世紀後半、細菌学という学問が発達すると、病気の原因が解明され、新しい治療法が発見されるようになりました。海外で細菌学の研究に取り組んだ北里柴三郎は日本に帰り、⑥伝染病の研究所をつくって若い医学者の育成につとめました。

F ⑦明治期の紡績業や製糸業の女工たちには、肺結核にかかる者が多くいました。労働環境の悪さと集団生活が患者の増えた原因でした。男性の場合、⑧同じく集団生活を強いられる軍隊において、肺結核の患者が多くみられました。また、戦争になると、戦場という環境の中で病気にかかる兵士もいました。⑨太平洋戦争では、熱帯地域の戦場においてたくさんの兵士がマラリアという熱病に苦しみました。

問1 下線部①について、この外交使節を何といいますか。

問2 下線部②について、聖武天皇がとった政策について述べた次の文の(あ)に入る語句と、(い)に入る内容を答えなさい。

聖武天皇は(あ)の力で社会の不安を解消しようとし、(い:具体的な政策)ことを命じた。

問3 下線部③に関して、次の史料は、この時期に中国をおとずれたイタリア人商人が、日本について聞いたことを書き記したものの要約です。史料中の波線部の内容と同時期の日本の政治のしくみについて述べた文a～dのうち正しいものの組合せを、後のア～エから1つ選び、記号で答えなさい。

ジパング(日本)は大海にある島国である。この国ではたくさんの金をとれ、この国の王の宮殿の屋根は黄金でできていると言う。…フビライ・ハンはこの国の富を手に入れようと軍隊を派遣した。…

- a 京都におかれた幕府を将軍と守護たちで運営していた。
- b 幕府に将軍はいたが、実質は執権が幕府の政治を動かしていた。
- c 幕府の将軍と武士たちは、領地を中心とした関係で結ばれていた。
- d 将軍の住む都市と自分の領地を1年ごとに行き来する参勤交代が行われていた。

ア a・c イ a・d ウ b・c エ b・d

問4 下線部④について、日本語に翻訳され、出版されたこの書物を答えなさい。

問5 下線部⑤について、なぜコレラが長崎から広がっていったのですか。その理由を考え、簡単に説明しなさい。

問6 下線部⑥の研究所で育った医学者で、黄熱病の研究などで活躍した人物を答えなさい。

問7 下線部⑦について、次の表1・2と文1・2をもとに、1880年代～1890年代にかけて日本の紡績業がどのように変化したか、簡単に説明しなさい。

表1 1885年の主要な輸出品・輸入品

	第1位(全体に占める割合)	第2位(全体に占める割合)	第3位(全体に占める割合)
輸出	生糸(35%)	緑茶(18%)	水産物(7%)
輸入	綿糸(18%)	砂糖(16%)	綿織物(10%)

表2 1899年の主要な輸出品・輸入品

	第1位(全体に占める割合)	第2位(全体に占める割合)	第3位(全体に占める割合)
輸出	生糸(29%)	綿糸(13%)	絹織物(8%)
輸入	綿花(28%)	砂糖(8%)	機械類(6%)

文1 紡績業とは綿糸を生産する産業である。

文2 1880年代末ごろから、機械制生産の紡績会社が次々と設立されていった。

問8 下線部⑧について、明治政府は20歳になった男子に3年間の兵役を義務づけた。この法令を答えなさい。

問9 下線部⑨について述べた文として誤っているものを、次のア～エから1つ選び、記号で答えなさい。

- ア 労働力不足のため、中学校や女学校の生徒が工場労働に動員された。
- イ 本土空襲が激しくなると、都市部への学童疎開が行われた。
- ウ 沖縄ではアメリカ軍との戦闘が行われた。
- エ ポツダム宣言を受け入れて、日本は降伏した。

6 次の3つの新聞記事を読んで、後の問いに答えなさい。

3月訪日客93%減 過去最大 入国制限響く 前年同月比

(あ)庁は15日、日本を3月に訪れた外国人旅行者は前年同月比93.0%減の推計19万3700人だったと発表した。減少率は1964年の①統計開始以降最大で、月間の訪日客が20万人を下回ったのは89年2月以来、31年ぶり。(1)感染拡大に対応した日本の入国制限が響いた。日本人の出国者数も85.9%減の27万2700人で減少率は最大だった。

(2020/04/16 中国新聞朝刊より抜粋)

消費行動も大きく変化

ハンドソープや自宅用の食品を買い込む一方、(2)が汚れるなどの理由から化粧品は敬遠。(1)の感染拡大で②消費者のライフスタイルが変化し、③小売店の販売動向が大きく変化していることが17日(い)省の調査で分かった。

(中略)

最も販売額が伸びたのは、ホームセンターのせっけん類で増加。洗剤や漂白剤なども好調で、衛生意識の高まりを反映したとみられる。テレワークなどで使われる(3)の販売は増えた。

(後略)

(2020/04/19 中国新聞セレクトより抜粋、一部改変)

ごみ袋 触れずに収集 (う)省開発へ 作業員の感染防止

(う)省が、家庭から集積所に出されたごみ袋を作業員が触らず、機械を使って収集する仕組みの開発に乗り出す方針を固めたことが13日、分かった。(1)の影響は長期化が避けられず、作業員の感染防止策が必要と判断した。集積所に置いた大型コンテナから、収集車に取り付けた装置で積み込む海外の例を参考に。高齢化や人手不足に悩む作業員の負担を減らす狙いもある。来年度④予算の概算要求に研究費などを盛り込む方向だ。

実現には、新型の収集車の導入費用やコンテナを置くスペースの確保などが課題となる。

(中略)

新たな収集システムの開発に当たっては、作業時の安全確保に加え、作業の効率化と住民の利便性の両立が求められる。(う)省担当者は「都市部や郊外部、⑤地方によって違う形式になることもあり得る。なるべく接触を減らした衛生的な仕組みを検討したい」と話している。

(2020/08/14 中国新聞朝刊より抜粋)

問1 文章中の(1)～(3)にあてはまる語句を答えなさい。

問2 文章中の(あ)～(う)にあてはまる行政機関の名前を、次のア～クから1つずつ選び、記号で答えなさい。

ア 厚生労働 イ 国土交通 ウ 経済産業 エ 環境 オ 観光
カ スポーツ キ 農林水産 ク 中小企業

問3 下線部①について、新聞記事に書かれている外国人旅行者の推移をグラフにする場合、どのようなグラフを使用するといえますか。あてはまるグラフの種類を答えなさい。

問4 下線部②に関して、消費者の行動について述べた次の文章中の(あ)～(え)にあてはまる語句の正しい方を1つずつ選び、解答らんりに答えなさい。

一般的には、ある商品を買込む消費者が増えた場合、急にその商品を生産することが難しければ、その商品が世の中に出回る量が(あ 多く・少なく)なるので、値段が(い 上がり・下がり)やすい。

一方で、ある商品を消費者が買うことをひかえている場合には、お店にその商品が(う 多く・少なく)なるので、値段が(え 上がり・下がり)やすい傾向にある。

問5 下線部③に関して、小売店などでは、食料品などの特定の品目について消費税の税率を低くしています。そのような税率を何と言いますか。また、低くされた税率は現在何%ですか。

問6 下線部④について述べた文として正しいものを、次のア～エから1つ選び、記号で答えなさい。

ア 予算は必ず参議院から審議を始めることになっている。
イ 予算が成立するかどうかは、審議のあとに多数決で3分の2以上の賛成で決定する。
ウ 予算の審議の時には、委員会が開かれ、場合によっては公聴会が開かれる。
エ それぞれの省庁の計画をもとに内閣で話し合い、予算を作成する。

問7 下線部⑤に関して、地方公共団体(地方自治体)が受け持つ仕事として誤っているものを、次のア～エから1つ選び、記号で答えなさい。

- ア 消防や警察により地域の安全を確保する
- イ 道路や河川の管理をする
- ウ 地域の家庭や会社などに電気やガスを供給する
- エ 保育所や公民館などをつくる

問8 3つの新聞記事について述べた次の文X・Yの正誤の組み合わせとして正しいものを、後のア～エから1つ選び、記号で答えなさい。

- X 3月に日本を訪れた外国人観光客より、日本人の出国者数の方が多い。
- Y 今後、家庭から集積所に出されたごみ袋を作業員が触らず、機械を使って収集する仕組みの開発ができれば、すべての地域で同じ仕組みでの収集が可能になる。

- | | | | | | |
|---|-------|-------|---|-------|------|
| ア | X 正しい | Y 正しい | イ | X 正しい | Y 誤り |
| ウ | X 誤り | Y 正しい | エ | X 誤り | Y 誤り |

社会解答用紙

名前	
----	--

受験番号	
------	--

点	
---	--

1

問1	(1)	(2)	(3)	(4)	(5)	工業地帯	()
	県			県			
問2	(1)	(2)	(3)	(4)	(5)		()

2

問1	(1)	(2)	問2	(あ)	()	
問2	(い)				()	
問3	問4		問5		()	
問6	(う)	(え)			(お)	()

3

問1		問2		問3	(1)	(2)	化	()
問4	(1)				(2)	問5	()	
	(え)	(お)	山地	(か)	山地			

4

問1	(1)	(2)	問2	問3	問4	問5	()
問6	(1)					(2)	()

5

問1		問2	(あ)	(い)	()	
問3	問4				()	
問5				問6		()
問7						()
問8		問9				()

6

問1	(1)	(2)	(3)	問2	(あ)	(い)	(う)	()
問3		問4	(あ)	(い)	(う)	(え)	()	
グラフ								
問5	税率の名前		税率	問6	問7	問8	()	
			%					