

3 社会

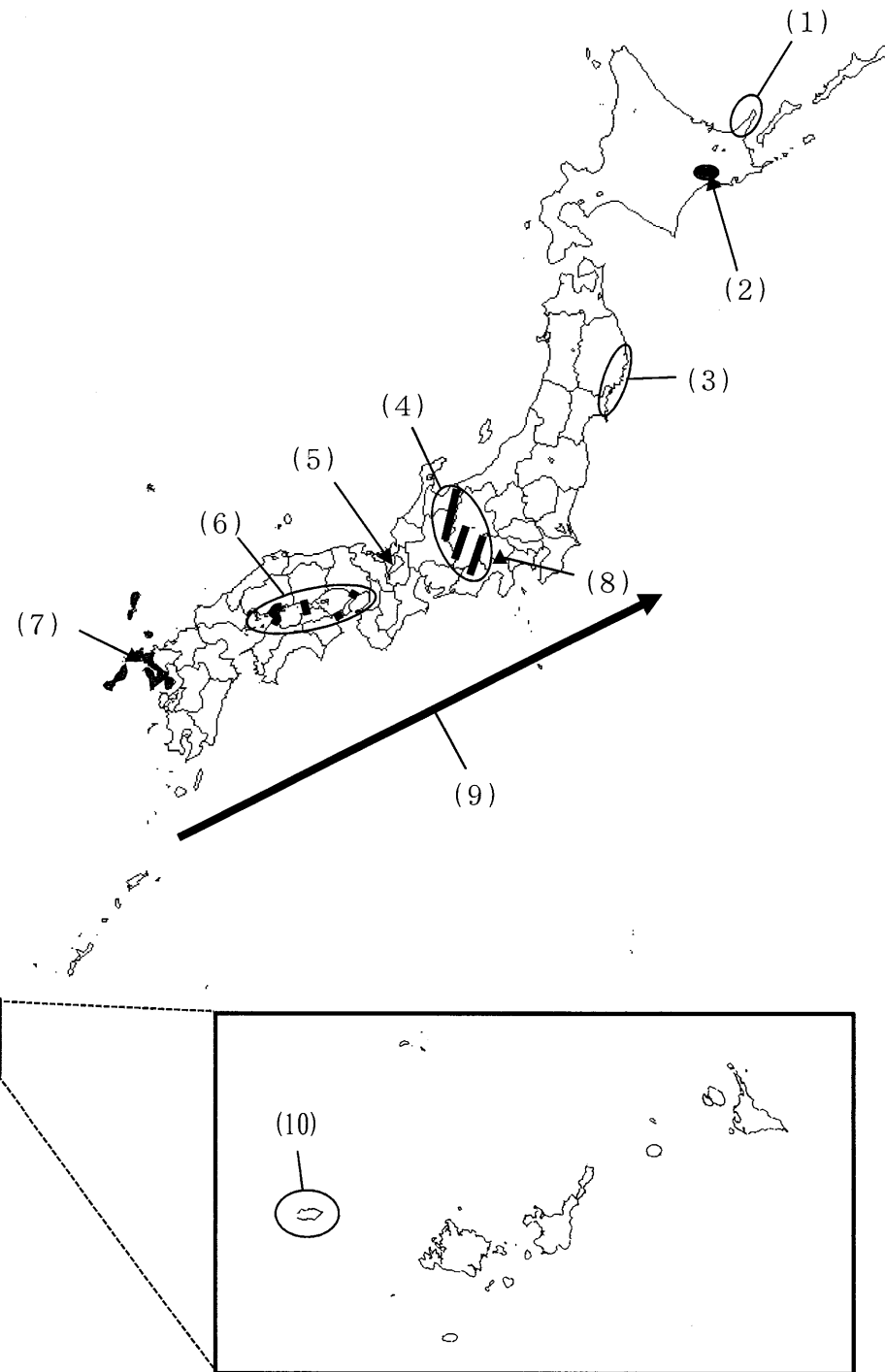
*** 開始の合図があるまで、開いてはいけません ***

試験が始まるまで、下の〔注意事項〕を読んでおいてください。

〔注意事項〕

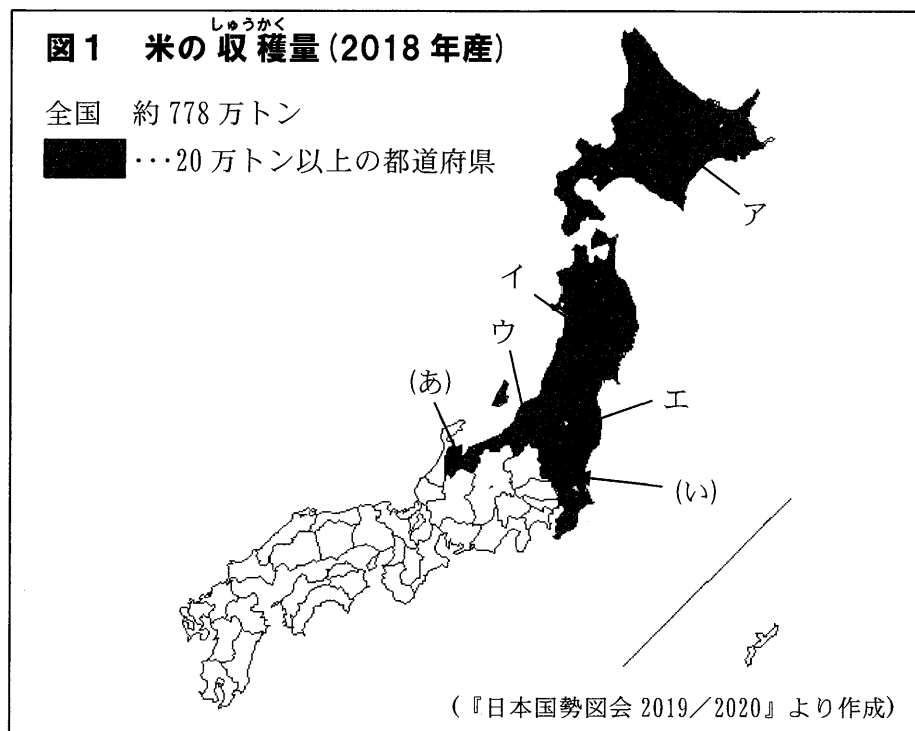
- ・ 問題用紙は表紙をふくめて11枚、解答用紙が1枚あります。
- ・ 解答はすべて解答用紙に記入してください。
- ・ 社会の試験時間は、45分です。
- ・ 印刷の見えにくい場合のほかは、質問を受けません。
- ・ ホッチキスは、はずしてもかまいません。
- ・ 必要なものは、えんぴつ、消しゴム です。

1 次の地図中の(1)～(10)について、それぞれ説明した後の文章中の空らんに入る語句を答えなさい。



- (1) ()海にのびる知床半島は、日本で最も北にある世界自然遺産です。
- (2) 北海道にある釧路湿原は、日本で最も広い湿原です。1980年に日本で最も早く()条約に登録されました。
- (3) 三陸海岸の南側は、出入りの多い()海岸が続き、八戸や気仙沼などの漁港がみられます。
- (4) 飛騨山脈、()山脈、赤石山脈をあわせて日本アルプスといいます。
- (5) 滋賀県にある()湖は、日本で最も大きな湖です。
- (6) 本州と四国を結ぶ、瀬戸内しまなみ海道、()、明石海峡大橋・大鳴門橋をあわせて本州四国連絡橋といいます。
- (7) 日本で最も()の数が多い都道府県は長崎県です。面積は47都道府県の中で37位と小さいですが、()の数が多いので海岸線の長さは北海道に次いで2位です。
※空らんには同じ語句が入ります。
- (8) 日本で最も高い山である富士山は、静岡県と()県の県境に位置しています。
- (9) ()海流は、日本の太平洋側を北上する暖流です。
- (10) 沖縄県にある()島は、日本の最も西に位置している島です。

2 次の図をみて、米に関する後の問いに答えなさい。



問1 図1中の(あ)・(い)の県名を答えなさい。

問2 最も米の収穫量が多い都道府県を、図1中のア～エから1つ選び、記号で答えなさい。

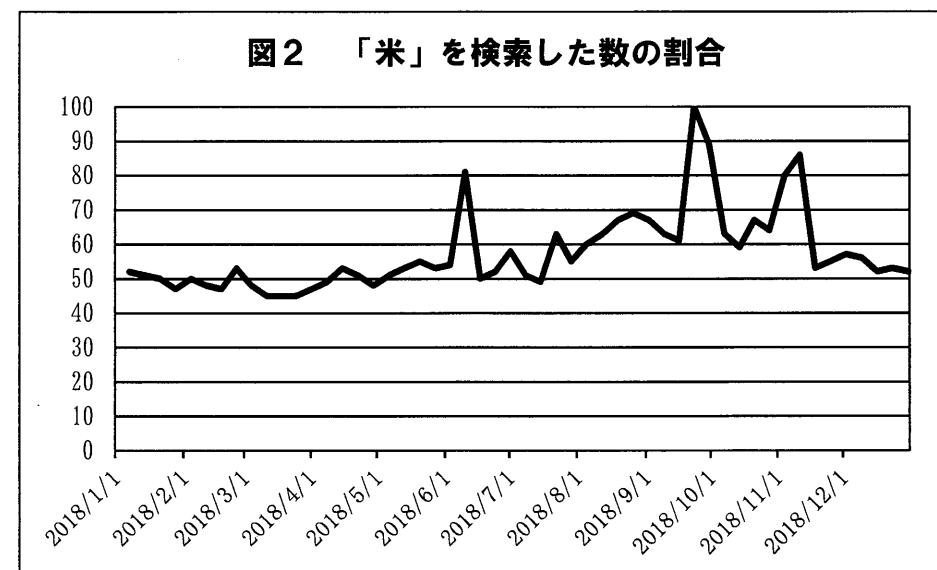
問3 図1中の米の収穫量が20万トン以上の都道府県について述べたものとして誤っているものを、次のア～エから1つ選び、記号で答えなさい。

- ア 都道府県名と県庁所在地名が異なる都道府県が5つある。
- イ 東北地方に属する県がすべて含まれている。
- ウ 人口の多い上位5都道府県はすべて含まれていない。
- エ 面積の大きい上位5都道府県がすべて含まれている。

問4 東北三大祭りの1つで、米の豊作を祈る「竿灯まつり」が行われている県名と行われる季節の組み合わせとして正しいものを、次のア～エから1つ選び、記号で答えなさい。

	ア	イ	ウ	エ
県名	秋田県	秋田県	山形県	山形県
季節	夏	秋	夏	秋

問5 次の図2は、1年間のどの時期に「米」というキーワードがインターネットで検索されているかを示したものです。この図2について考えられることをまとめた、後の文章中の(う)～(お)に入る語句と、(か)に入る文をそれぞれ答えなさい。



※グラフの数値は、一定の期間の中で最も検索数が多かった日を基準として検索数を相対的に示したものです。100の場合はそのキーワードの検索数が最も高いことを示し、50の場合は検索数が半分であることを示しています。

(Googleトレンドより作成)

グラフをみると、大きな山になっている部分が3つあります。米作りの作業で、5月から6月にかけては(う)があり、9月から10月にかけては(え)が全国的に行われるためだと予想されます。さらに、9月から10月は、(お)の被害も多いため、それを心配する検索が増え、最も高い山になっていると考えられます。しかし、このグラフは米作りが行われない11月にも山ができています。これは、「米」という検索の仕方では、(か)からです。「米」を検索した数が多い都道府県が沖縄県であることや「野球」というキーワードとともに検索されていることから分かります。これではその他の月のデータにも正確ではないことになります。そのため、社会の授業で学習した「米」についてインターネットを使って調べる場合は、「米作り」や「稲作」など、より具体的なキーワードに限定して検索する必要があります。

問6 米農家のかかえる問題について、次の(1)・(2)の問いに答えなさい。

(1) 生産者の高齢化や労働力不足を解決するため、ドローンやロボット技術などの先端技術を活用し、誰もが取り組みやすい農業の研究が進められています。この農業を何といえますか。解答らんには合うようにカタカナ4文字で答えなさい。

(2) 米の消費量の減少を解決するために政府が行っている取り組みとして最も適切なものを、次のア～エから1つ選び、記号で答えなさい。

- ア 米粉パンなど新たな食べ方や活用方法を提案する。
- イ 中学生や高校生が農業を学ぶ機会を提供する。
- ウ ほ場整備を行うことによって機械を使って収穫できるようにする。
- エ 米の生産量をおさえる生産調整を廃止する。

3 次の文章を読んで、後の問いに答えなさい。

2018年に①日本を訪れた外国人は、過去最高となる3,119万人でした。オリンピックが開催される今年は、日本を訪れる外国人がさらに増えることが予想されます。

外国人が日本を訪れる理由はさまざま、日本の自然、②観光施設、歴史、買い物、日本食、③温泉などを楽しみたいと考えている観光客が多くいるようです。また、他の魅力として「日本の産業」も注目されてきています。群馬県にある「(あ)と絹産業遺産群」や8つの地域に点在する「(い)日本の産業革命遺産 製鉄・鉄鋼、造船、石炭産業」などの産業遺産が、世界遺産として登録されたことがきっかけです。歴史的な建物の見学だけでなく、日用品、自動車、機械などの④製造品の工場見学や漆器や焼き物、織物などの⑤伝統工芸品をつくる体験型の観光が人気です。

問1 文章中の(あ)に入る産業遺産の名称と(い)に入る時代をそれぞれ答えなさい。

問2 下線部①に関して、次の図は北海道の宿泊者数の割合を季節ごとに示したものです。北海道に宿泊する人々(日本人も含む)は、どの季節もまんべんなくいるのに対し、外国人の中でもインドネシアやフィリピンの人々は、冬の時期に多く北海道に宿泊していることが分かりました。その理由として考えられることを、後の表1を参考にして簡単に説明しなさい。

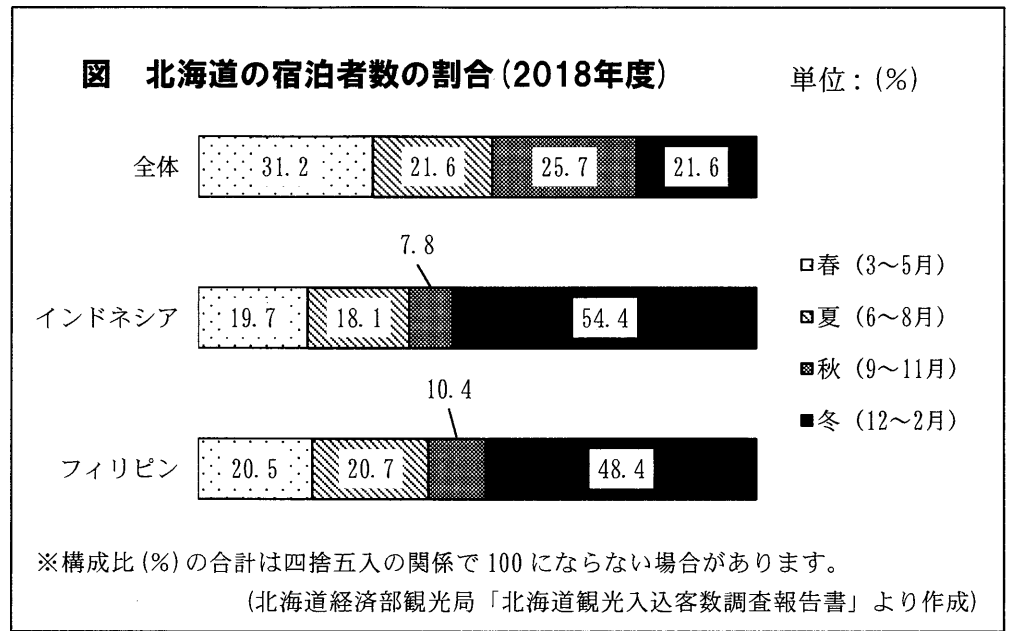


表1 各地域の季節ごとの平均気温(2018年度)

	3月~5月	6月~8月	9月~11月	12月~2月
北海道	8.0℃	19.7℃	12.8℃	-2.2℃
インドネシア	29.1℃	29.1℃	29.4℃	28.7℃
フィリピン	28.9℃	27.9℃	28.1℃	26.3℃

※それぞれ最も人口の多い都市の気温をもとに計算しています。

(気象庁ホームページより作成)

問3 下線部②に関して、次の表2は、大阪府、鹿児島県、岐阜県、千葉県のリジャー関連の施設数を示しています。大阪府のリジャー関連の施設数を、表2中のア～エから1つ選び、記号で答えなさい。

表2 リジャー関連の施設数(2017年3月末現在)

	温泉地	海水浴場	テーマパーク・リジャーランド
ア	55	—	5
イ	100	55	8
ウ	36	4	25
エ	91	64	27

(『データでみる県勢2019・2020年版』より作成)

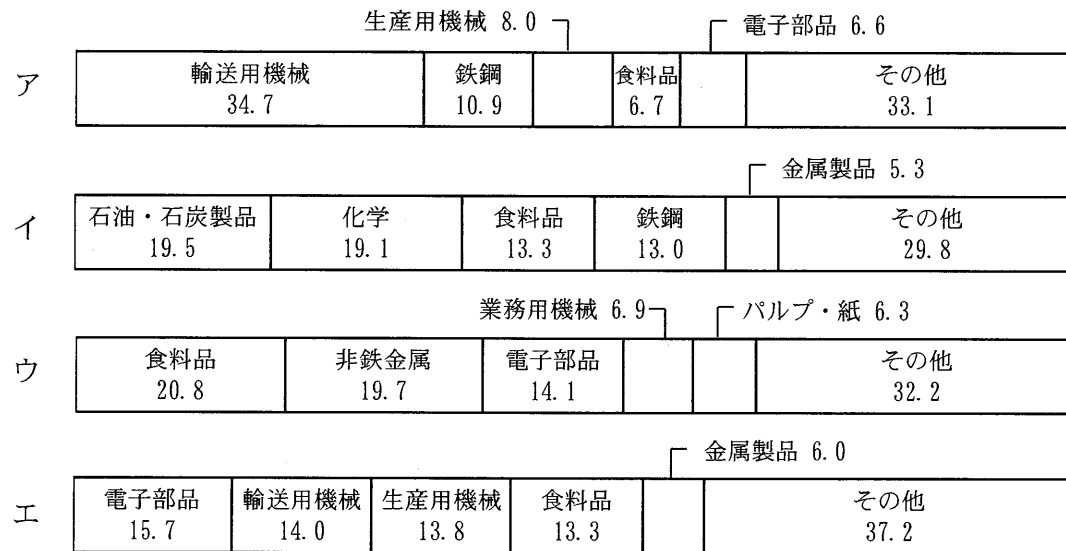
問4 下線部③の近くにあると考えられる発電所として最も適切なものを、次のア～エから1つ選び、記号で答えなさい。

問題は次のページに続きます。

- ア 水力発電所 イ 地熱発電所 ウ 火力発電所 エ 風力発電所

問5 下線部④について、次の4つのグラフは、^{あおもり}青森県、^{くまもと}熊本県、^{ちやま}千葉県、^{ひろしま}広島県の製造品出荷額等割合を示したものです。熊本県の製造品出荷額等割合を、次のア～エから1つ選び、記号で答えなさい。

単位：(%)



(『データでみる県勢 2019年版』より作成)

問6 下線部⑤の条件として適切でないものを、次のア～エから1つ選び、記号で答えなさい。

- ア 製造過程のほとんどが手作りであること。
 イ 複数の都道府県で同じ工芸品が生産されていること。
 ウ 古くから受け継がれてきた技術や材料を使っていること。
 エ 日常生活や年中行事で使うものであること。

4 文章【A】・【B】を読んで、後の問いに答えなさい。

【A】 昨年、元号が大きな話題になりました。「平成」から「令和」に変わり、時代が本当
に変わったというふうに感じましたね。ここでは、過去の有名な元号にふれながら、歴史を
ふりかえっていきます。

縄文時代や①弥生時代などにはまだ元号はありませんでした。日本における最初の元号
は「大化」です。この元号は、のちの(あ)天皇となる②中大兄皇子らが蘇我氏を倒し、
新しい政治をはじめたときにつくられました。③奈良時代には「天平」という元号があり
ます。「天平」といえば、④遣唐使となった僧侶たちの運命を描く有名な歴史小説『天平の
甕』があります。平安時代に(い)が摂政になった時の元号は「寛仁」でした。⑤この
頃、貴族たちは大きな屋敷で暮らし、和歌やけまりなどを楽しんだそうです。また、世の中
に対する不安から⑥極楽浄土へのあこがれも強まりました。

問1 文章【A】中の(あ)・(い)に入る語句の組み合わせとして正しいものを、次の
ア～エから1つ選び、記号で答えなさい。

- ア (あ) 天智 (い) 平清盛 イ (あ) 天智 (い) 藤原道長
ウ (あ) 聖武 (い) 平清盛 エ (あ) 聖武 (い) 藤原道長

問2 下線部①について述べた文a～dの組み合わせとして正しいものを、後のア～エから
1つ選び、記号で答えなさい。

- a 米の脱穀には千歯こきが使用されるようになった。
b 米を収穫するために石包丁が使われた。
c この時代の集落の遺跡から、はにわが発見されている。
d この時代には、青銅器が祭りなどで使われた。

- ア a・c イ a・d ウ b・c エ b・d

問3 下線部②について、この時に中大兄皇子とともに中心的な役割を果たした人物の名前
を答えなさい。

問4 下線部③について述べた文として適切なものを、次のア～エから1つ選び、記号で答
えなさい。

- ア 平安京という都が作られた。
イ 小野妹子が中国に派遣された。
ウ 古墳が各地につくられた。
エ 東大寺が作られた。

問5 下線部④について、遣唐使たちが帰国する船に乗り来日した人物で、唐招提寺を開い
た僧の名前を答えなさい。

問6 下線部⑤について、次の写真のようなこの頃の貴族女性の正装を何といいますか。



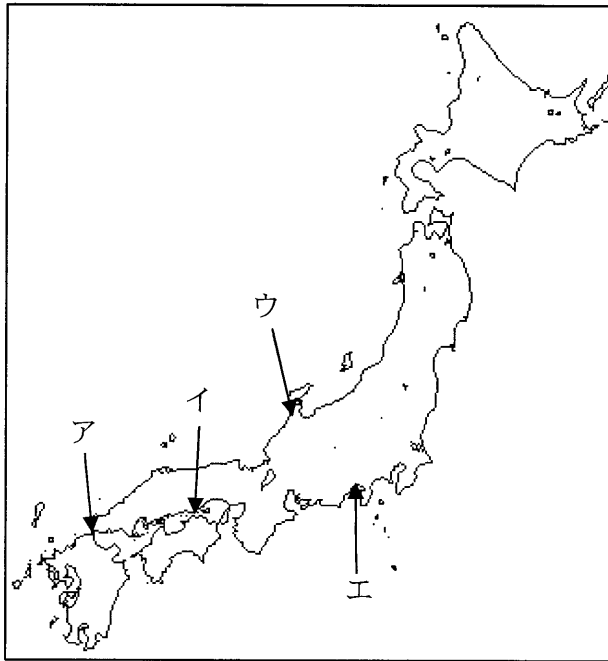
問7 下線部⑥について、次の文章の空らんに入る語句を答えなさい。

平等院は、藤原頼通が建てた寺院です。ここにある鳳凰堂は、極楽浄土にいて命あるすべ
てのものを救済するとされる仏が置いてある、()堂とよばれるお堂です。

【B】 平安時代の終わりの頃には元号が事件名になっている「治承・寿永」の乱というできごとが起こっています。いわゆる⑦源平の合戦といわれるものです。その後、⑧鎌倉時代がやってきます。この時代の「永仁」という元号のときには、徳政令が出されています。

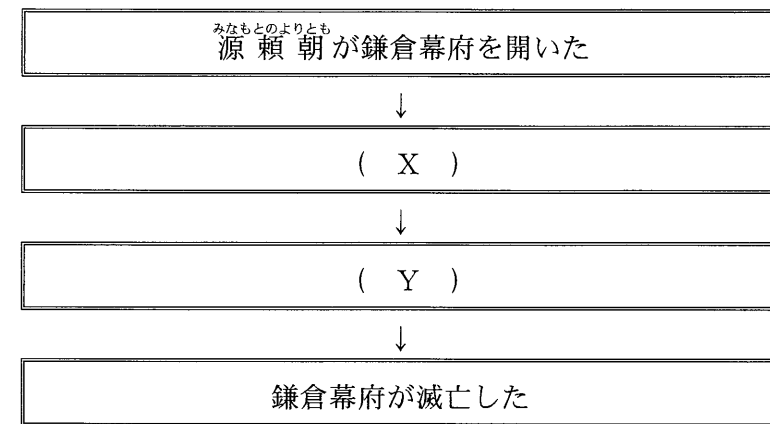
次の室町時代には日本で3番目に長い元号「応永」の時代がありました。この時代に活躍したのが金閣で知られる足利義満です。この後、⑨有名な3人の武将が登場し、時代は江戸時代に入っていきます。最初の元号は、「元和」でした。そして江戸時代の元号が「寛永」の時代には⑩鎖国政策がすすめられ、「寛政」の時代には、様々な政治改革が行われました。また、約260年続いた⑪江戸時代には、様々な文化や学問も花開きました。一方で、江戸時代は飢饉も多く、⑫農民一揆なども数多く発生しました。「天明」「天保」などの元号の名のついた大きな飢饉もありました。そんな江戸時代も、最後の元号「慶応」でもって幕が閉じられ、時代は「明治」に移っていきました。

問8 下線部⑦について、この戦いで1185年に平氏は源氏により滅亡させられました。平氏が滅亡した戦いの場所を次の地図中のア～エから1つ選び、記号で答えなさい。



問9 下線部⑧について、右の図は、鎌倉時代の歴史上のできごとを年代順に並べたものです。(X)・(Y)に入る文a～dの組み合わせとして正しいものを、後のア～エから1つ選び、記号で答えなさい。

図 鎌倉時代の歴史上のできごと



- a 京都において保元の乱・平治の乱が起こった
- b 執権の北条氏が中心となって御成敗式目をつくった
- c モンゴル軍が二度にわたって日本に攻めてきた
- d 武田信玄が上杉謙信と川中島で戦った

- ア (X) a (Y) b イ (X) a (Y) c
 ウ (X) b (Y) c エ (X) b (Y) d

問10 下線部⑨について、この3人の武将に関連した歌とその説明の文章を読んで、次のページの(1)・(2)の問いに答えなさい。

「織田がつき羽柴がこねし天下餅すわりしままに食うは徳川」

上の歌は、のちの時代に、3人の武将により天下が統一されていった様子が描かれた歌です。3人の武将とは、都市において誰でも商売ができる(あ)などを実施したり、新しい武器である(い)を用いた戦い方で統一をすすめていった織田信長、刀狩や太閤検地などの政策によって社会のしくみをつくった(A)、天下をとるチャンスをうかがい(う)のちに(え)となり、江戸幕府の基礎を築いた徳川家康です。

(1) 説明の文章中の(あ)～(え)に入る語句の組み合わせとして正しいものを、次のア～エから1つ選び、記号で答えなさい。

- ア (あ) 楽市・楽座 (い) 大砲 (う) 長篠の合戦 (え) 将軍
 イ (あ) 五人組 (い) 鉄砲 (う) 長篠の合戦 (え) 関白
 ウ (あ) 楽市・楽座 (い) 鉄砲 (う) 関ヶ原の合戦 (え) 将軍
 エ (あ) 五人組 (い) 大砲 (う) 関ヶ原の合戦 (え) 関白

(2) 説明の文章中の(A)に入る武将の名前を漢字4文字で答えなさい。

問 11 下線部⑩に関係した次の文X・Yの正誤の組み合わせとして正しいものを、後のア～エから1つ選び、記号で答えなさい。

- X 薩摩藩に征服された琉球王国からは使節が江戸に送られてきた。
 Y 対馬藩があった蝦夷地では、日本の商人がアイヌの人と交易をした。

- ア X 正しい Y 正しい イ X 正しい Y 誤り
 ウ X 誤り Y 正しい エ X 誤り Y 誤り

問 12 下線部⑪について、次の(1)・(2)の問いに答えなさい。

(1) 江戸時代の「元禄」という元号の時代に活躍した近松門左衛門と関係の深い絵の組み合わせとして正しいものを、後のア～エから1つ選び、記号で答えなさい。

a
 著作権上の都合により、
 掲載を省略しています。

b
 著作権上の都合により、
 掲載を省略しています。

c
 著作権上の都合により、
 掲載を省略しています。

d
 著作権上の都合により、
 掲載を省略しています。

- ア a・c イ a・d ウ b・c エ b・d

(2) 江戸時代の文化や学問について述べた次の文X～Zの正しいものの組み合わせを、後のア～キから1つ選び、記号で答えなさい。

- X 大塩平八郎は日本中を歩いて測量し、正確な地図をつくりあげた。
 Y 本居宣長は、『枕草子』などの古典を研究し、『学問のすすめ』を書きあげた。
 Z 杉田玄白たちはオランダの医学書を翻訳して『解体新書』を出版した。

- ア X イ Y ウ Z エ X・Y
 オ X・Z カ Y・Z キ X・Y・Z

問 13 下線部⑫について、次の絵のような、江戸時代におもに都市においてみられた暴動のことを何といいますか。

著作権上の都合により、
 掲載を省略しています。

問 14 文章【A】・【B】と内容が合うものを次のア～エから1つ選び、記号で答えなさい。

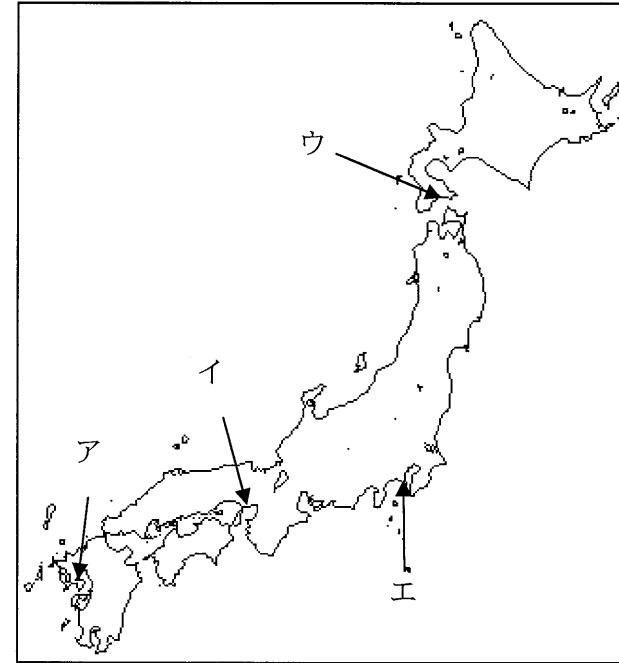
- ア 江戸時代の最初の元号は、「応永」であった。
- イ 「天平」の時代には、お茶を飲む風習が広がった。
- ウ 鎖国政策がすすんだのは、「寛永」という元号の時代だった。
- エ 日本では、奈良時代に最初の元号が使用された。

5 次の年表をみて、後の問いに答えなさい。

年	できごと
1853	ペリーが4隻の軍艦を率いて日本に來航する…………… ① A
1894	(あ)戦争が起こり、翌年に下関条約がむすばれる B
1901	田中正造が天皇に直訴する…………… ② C
1933	日本が満州国を認めない(い)を脱退する D
1937	日中戦争が始まる…………… ③ E
1945	第二次世界大戦が終わる…………… ④ F
1964	オリンピック東京大会がひらかれる G
1972	祖国復帰運動などの努力が実り、(う)が日本に復帰する

問 1 年表中の(あ)～(う)に入る語句をそれぞれ答えなさい。

問 2 年表中①について、ペリーが上陸した場所を次の地図中のア～エから1つ選び、記号で答えなさい。



問 3 年表中②について、田中正造が取り組んだ公害問題の起こった鉱山と県の組み合わせとして正しいものを、次のア～エから1つ選び、記号で答えなさい。

- ア 足尾銅山 — 長野県 イ 足尾銅山 — 栃木県
- ウ 大森銀山 — 長野県 エ 大森銀山 — 栃木県

問 4 年表中③について述べた次の文X・Yの正誤の組み合わせとして正しいものを、後のア～エから1つ選び、記号で答えなさい。

- X 日本軍と中国軍の北京郊外での戦いがきっかけで始まった。
- Y 日中戦争の結果、日本は樺太の南部を手に入れた。

- ア X 正しい Y 正しい イ X 正しい Y 誤り
- ウ X 誤り Y 正しい エ X 誤り Y 誤り

問5 年表中④に関係した次の文X・Yの正誤の組み合わせとして正しいものを、後のア～エから1つ選び、記号で答えなさい。

X 空襲が激しくなると都市部の小学生たちは、地方へ集団で疎開した。
Y 東京ではアメリカ軍による大規模な空襲をうけ、多くの人々が亡くなった。

- ア X 正しい Y 正しい イ X 正しい Y 誤り
ウ X 誤り Y 正しい エ X 誤り Y 誤り

問6 次の文(1)～(3)が入るのは年表中のA～Fのどの時期ですか、記号で答えなさい。

- (1) 東海道新幹線が開通する
(2) 自由民権運動が起こる
(3) 小村寿太郎が条約改正に成功する

6 次の新聞記事を読み、後の問いに答えなさい。

きょう終戦の日
74回目の終戦の日を迎える15日、政府主催の全国戦没者追悼式が東京都千代田区の日本武道館で行われる。()に即位した①天皇陛下が参列される、令和初の追悼式。②安倍晋三首相や戦没者遺族も参列し、先の大戦で犠牲となった約310万人の戦没者を悼むとともに、③不戦の誓いを新たにする。
戦後生まれの天皇陛下がお言葉を述べる初めての式でもあり、平和への思いをどんな言葉で表現するのか注目される。一方、安倍首相は2012年12月の第2次政権発足後、アジア諸国への加害と反省に言及せず、反発を招いてきた経緯があり、首相式辞の内容も焦点となる。
四国・九州に接近している台風10号の影響で、④宮崎県の遺族団が追悼式への参列を取りやめたほか、各地で慰霊行事の中止が相次いでいる。
追悼式は午前11時50分ごろに始まり、首相の式辞後、正午の時報に合わせて黙とう。天皇陛下のお言葉に続き、遺族代表が追悼の辞を述べ、参列者が献花する。
⑤厚生労働省によると、参列予定の戦没者の遺族は70代以上が8割弱を占め、最高齢が97歳、最年少は4歳。⑥高齢化に伴い、父母の参列は11年から途絶え、20年前には777人が参列していた妻も今年の参列予定者は5人ととどまる。戦争の記憶を次の世代に継承するため、12～17歳の6人が青少年代表として献花し、9～17歳の14人が花を渡す補助者を務める。
(2019/08/15 中国新聞朝刊より抜粋)

問1 文章中の空らんに入る月日を、次のア～エから1つ選び、記号で答えなさい。

- ア 1月1日 イ 4月1日 ウ 5月1日 エ 8月1日

問2 下線部①について、憲法に定められている仕事として誤っているものを、次のア～エから1つ選び、記号で答えなさい。

- ア 条約の締結 イ 国会の召集 ウ 衆議院の解散 エ 法律の公布

問3 下線部②に関して、日本の政治制度について次の(1)～(3)の問いに答えなさい。

(1) 2019年12月末時点の内閣総理大臣が属している政党を含め、与党を次のア～オから、すべて選び、記号で答えなさい。

- ア 自由民主党 イ 公明党 ウ 国民民主党 エ 日本共産党
オ 立憲民主党

(2) 内閣の仕事として適切なものを、次のア～エから1つ選び、記号で答えなさい。

- ア 国の予算をつくる イ 国の法律を決める
ウ 裁判官を裁く裁判所をつくる エ 法律が憲法にあっていないかを調べる

(3) 日本の内閣制度について述べた次の文X・Yの正誤の組み合わせとして正しいものを、後のア～エから1つ選び、記号で答えなさい。

X 内閣は政治を行うにあたり、国会に対して責任を負うと、日本国憲法に定められている。

Y 内閣総理大臣は、衆議院議員より選ばれと決められており、参議院議員はなることができない。

- ア X 正しい Y 正しい イ X 正しい Y 誤り
ウ X 誤り Y 正しい エ X 誤り Y 誤り

問4 下線部③に関して、日本の平和に関する法や政治について述べた文のうち誤っているものを、次のア～エから1つ選び、記号で答えなさい。

- ア 日本国憲法の前文にも平和への誓いが書き込まれている。
イ 日本国憲法の第9条で、外国との争いごとを武力で解決しないとうたっている。
ウ 日本の国会は、非核三原則を定め、平和を求める努力をしている。
エ 日本国政府は、国連で話し合われた核兵器禁止条約に調印した。

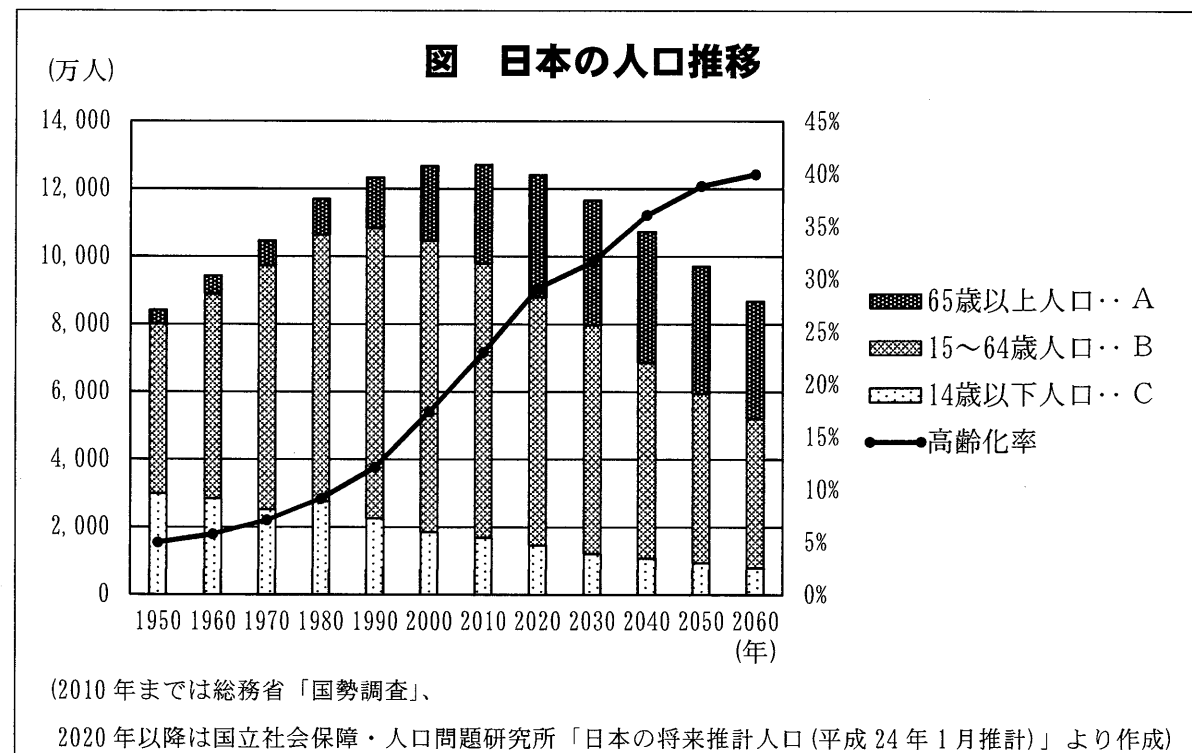
問5 下線部④に関して、県などをはじめとする地方自治体について述べた文として適切なものを、次のア～エから1つ選び、記号で答えなさい。

- ア 県知事は、住民の直接選挙で決められ、被選挙権は35歳以上となっている。
イ 県知事は、県議会において選ばれ、就任できるのは30歳以上となっている。
ウ 県議会は、地方裁判所によって憲法に違反する仕事をしていないかを審査される。
エ 県議会など地方議会の仕事としては、条例の制定・改正・廃止などがある。

問6 下線部⑤について、この政府機関の主な仕事の内容として適切なものを、次のア～エから1つ選び、記号で答えなさい。

- ア 予算や財政などに関する仕事 イ 検察や国籍など法律に関する仕事
ウ 経済や産業などに関する仕事 エ 国民の健康や労働などに関する仕事

問7 下線部⑥について、次の図をみて後の(1)・(2)の問いに答えなさい。



(1) 図における高齢化率の計算方法として適切なものを、次のア～エから1つ選び、記号で答えなさい。

- ア $A \div (B + C) \times 100$ イ $A \div (A + B + C) \times 100$
ウ $(A + B) \div C \times 100$ エ $(A + B) \div (A + B + C) \times 100$

(2) 高齢化が進むと経済的な面でどのようなことが起こると考えられますか。次の(a)～(c)に入る語句の組み合わせとして正しいものを、後のア～エから1つ選び、記号で答えなさい。

「働き手の(a)」・「税収の(b)」・「社会保障費の(c)」

- ア (a) 増加 (b) 増加 (c) 減少
イ (a) 増加 (b) 減少 (c) 増加
ウ (a) 減少 (b) 増加 (c) 減少
エ (a) 減少 (b) 減少 (c) 増加

名前	
----	--

受験番号	
------	--

点	
---	--

社会解答用紙

1

(1)	(2)	(3)	(4)	(5)
海	条約	海岸	山脈	湖
(6)	(7)	(8)	(9)	(10)
		県	海流	島

()

()

2

問 1	(あ)	(い)	問 2	問 3	問 4
	県				
	(う)	(え)	(お)		
問 5	(か)				
問 6	(1)	(2)			
	農業				

--

()

()

()

()

3

問 1	(あ)	(い)	
問 3	問 4	問 5	問 6
	問 2		

--

()

()

()

4

問 1	問 2	問 3	問 4	問 5	問 6
問 7	問 8	問 9	問 10	(2)	問 11
問 12	(1)	(2)	問 13	問 14	

--

()

()

()

5

問 1	(あ)	(い)	(う)	問 2	問 3
問 4	問 5	問 6	(1)	(2)	(3)

--

()

()

6

問 1	問 2	(1)	(2)	(3)
問 4	問 5	問 6	問 7	(2)

--

()

()
